



**PEMERINTAH KABUPATEN SINJAI  
DINAS PENDIDIKAN PEMUDA DAN OLAH RAGA  
SD NEGERI NO.136 HULO KAB.SINJAI**

Alamat : Jl. Balakia Hulo Kelurahan Tassililu Kec. Sinjai Barat Kode Pos 92653

**SOAL PENILAIAN TENGAH SEMESTER (PTS) T.P. 2023/2024**

**Muatan Pelajaran : Tematik Tema 6 (Menuju Masyarakat Sejahtera)**

**Kelas/Semester : VI / Genap**

**Hari/Tanggal : .....**

**Nama:**

**Waktu : 90 Menit**

Muatan Pelajaran	Kompetensi Dasar	Nomor Soal	Skor Perolehan	Nilai
PPKn	3.2	1, 5, 9, 13, 17		
Bahasa Indonesia	3.8	2, 14, 19		
IPA	3.2	3, 6, 10, 15		
IPS	3.4	7, 11, 16, 19		
SBDP	3.2 / 3.3 / 3.1	4, 8, 12, 20		

**A. PILIHAN GANDA**

Berilah tanda silang pada salah satu huruf A, B, C, atau D yang benar!

- Di desa tempat tinggal Ahmad sedang diadakan pemilihan kepala desa. Alif bertugas menjaga adiknya di rumah karena ayah dan ibu Ahmad ikut memilih di balai desa. Ayah dan ibu Ahmad telah mendapatkan haknya sebagai warga negara Indonesia. Di bawah ini hak yang diperoleh ayah dan ibu Ahmad yang benar adalah ....
  - Hak mendapatkan pendidikan
  - Hak mengemukakan pendapat
  - Hak mendapat perlindungan hukum
  - Hak kebebasan dan mengembangkan nilai-nilai budaya nasional
- Perhatikan judul teks berikut ini!  
"Manfaat Menanam Pohon di Sekitar Rumah"  
Perkiraan informasi yang tepat sesuai judul teks tersebut adalah....
  - Pentingnya menanam pohon
  - Udara di sekitar menjadi tercemar
  - Manfaat pohon bagi kehidupan manusia
  - Bagian-bagian pohon yang bias dimanfaatkan
- Perhatikan data berikut!
  - Pinggul melebar
  - Jakun menonjol
  - Mengalami menstruasi
  - Suara menjadi lebih beratCiri-ciri pubertas pada perempuan ditunjukkan oleh nomor ....
  - 1 dan 3
  - 1 dan 4
  - 2 dan 3
  - 2 dan 4
- Negara kita merupakan negara yang kaya akan kebudayaan, diantaranya adalah tarian kreasi. Ada tiga jenis tarian kreasi, yaitu ....
  - Tarian kreasi daerah, modern, dan tradisional
  - Tarian kreasi daerah, kontemporer, dan klasik
  - Tarian kreasi daerah, modern, dan kontemporer
  - Tarian kreasi daerah, modern, klasik, dan kontemporer

## B. PILIHAN GANDA KOMPLEKS

5. Setiap warga negara memiliki kedudukan yang sama dalam hukum dan pemerintahan, serta wajib menjunjung hukum dan pemerintahan tersebut tanpa kecuali (Pasal 27 Ayat 1).

Berilah tanda centang(✓) pada pernyataan yang benar mengenai kewajiban seseorang sebagai warga negara (jawaban bisa lebih dari satu).

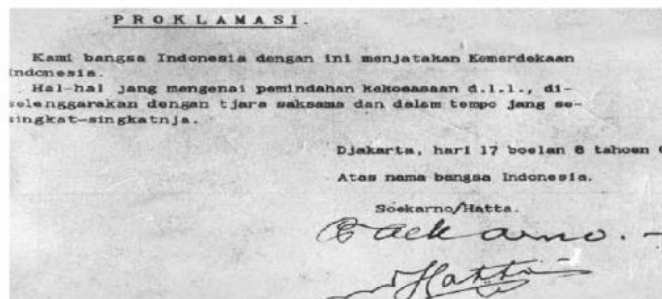
- Membayar pajak
- Menghormati hak orang lain
- Mengabaikan kebersihan lingkungan
- Menghindari kerja bakti pada hari minggu
- Menjaga keamanan dan ketertiban di lingkungan

6. Salah satu langkah yang bias ditempuh supaya para remaja peduli lingkungan adalah dengan meningkatkan kepedulian terhadap lingkungan. Sebagai contoh, melalui kegiatan pencinta alam. Kegiatan pencinta alam dapat meningkatkan kepedulian remaja terhadap lingkungan alam. Kecintaan remaja terhadap lingkungan alam tercermin pada sikap peduli terhadap lingkungan.

Berilah tanda centang(✓) pernyataan yang menunjukkan sikap pencinta alam yang peduli terhadap lingkungan (jawaban bias lebih dari satu).

- Kegiatan reboisasi di lahan gundul
- Berhemat air dalam kehidupan sehari-hari
- Penebangan pohon yang dilakukan secara serampangan
- Pengadaan tempat pembuangan sampah umum
- Pembakaran sampah dalam skala besar

7. Bacalah baik-baik naskah berikut!



Berilah tanda centang(✓) pada kolom benar atau salah pernyataan mengenai makna teks di atas hubungannya dengan kemerdekaan Indonesia!

No.	Pernyataan	Benar	Salah
1.	Proklamasi sebagai puncak perjuangan bangsa Indonesia		
2.	Proklamasi menjadi pintu gerbang masyarakat yang terbelengguh		
3.	Proklamasi sebagai awal terbentuknya Negara Kesatuan Republik Indonesia		
4.	Proklamasi sebagai titik tolak perubahan hukum colonial menjadi hokum nasional		
5.	Dengan proklamasi, masyarakat bercerai-berai dan tidak bersatu		

8. Interval nada adalah sebuah langkah dari satu nada ke nada lainnya. Langkah tersebut mempunyai nama tertentu yang disebut nama pangkat. Interval selalu dibatasi oleh dua nada, nada pertama disebut nada pangkal dan nada kedua disebut nada selang.

Berilah tanda centang (✓) pernyataan yang benar mengenai nama-nama interval nada (jawaban bias lebih dari satu).

Langkah ke-1 disebut *prime*

Langkah ke-2 disebut *trits*

Langkah ke-5 disebut *secondo*

Langkah ke-7 disebut *septic*

Langkah ke-8 disebut *oktaf*

### C. MENJODOHKAN

9. Sebagai warga negara, pada diri kita melekat hak dan kewajiban. Hak dan kewajiban ini harus dilaksanakan secara seimbang, tidak bias dipisahkan. Dengan demikian, di mana ada hak maka di situ ada kewajiban yang menyertai.

Hubungkan dengan garis, pernyataan yang termasuk hak dan kewajiban sebagai warga negara!

Mengikuti pendidikan dasar	•	•	Hak
Memperoleh pendidikan dan pengajaran	•		
Mematuhi nasihat orang tua dan guru	•		
Mematuhi peraturan di rumah dan di sekolah	•	•	Kewajiban
Berserikat, berkumpul, dan mengeluarkan pendapat	•		

10. Pubertas adalah masa ketika seorang anak mengalami perubahan fisik, psikis, dan pematangan fungsi seksual. Masa pubertas dalam kehidupan kita biasanya dimulai saat berumur 8 hingga 10 tahun dan berakhir lebih kurang diusia 15 hingga 16 tahun. Pada masa ini, memang pertumbuhan dan perkembangan berlangsung cepat. Berikut merupakan ciri pubertas:

- |   |                                  |
|---|----------------------------------|
| (I) Jakun mulai tumbuh                      | (IV) Pinggul menjadi lebih lebar |
| (II) Tumbuh rambut halus di tempat tertentu | (V) Suara semakin halus          |
| (III) Suara lebih berat                     | (VI) Mulai muncul jerawat        |

Hubungkan dengan garis, pernyataan yang sesuai dengan ciri pubertas pada laki-laki dan perempuan!

(VI)	•		
(V)	•	•	Laki-laki
(IV)	•		
(III)	•		
(II)	•	•	Perempuan
(I)	•		

11. Berikut nama tokoh-tokoh penting dalam peristiwa Proklamasi Kemerdekaan Indonesia.





- A. Ir. Soekarno
- B. Sayuti Melik
- C. Ibu Fatmawati
- D. Laksamana Maeda
- E. Latief Hendraningrat

Jodohkan peran tokoh peristiwa seputar proklamasi berikut!

A	•	•	Pengibar Bendera Pusaka Pertama
B	•	•	Proklamator Indonesia
C	•	•	Pengetik Naskah Proklamasi
D	•	•	Penjahit Bendera Pusaka
E	•	•	Jendral Jepang

12. Indonesia memiliki bermacam-macam tarian daerah yang wajib kita ketahui. Macam-macam tarian daerah kerap ditampilkan dalam berbagai perayaan baik acara daerah maupun nasional. Berikut beberapa jenis tarian dan daerah asalnya.

Hubungkan nama tarian dan asal daerahnya dengan tepat!

a) Tari Pendet 	•	•	Yogyakarta
b) Tari Kandagan 	•	•	Jawa Timur
c) Tari Klana 	•	•	Bali
d) Tari Remo 	•	•	Jawa Barat



#### D. ISIAN

Isilah titik-titik dengan jawaban yang tepat!

13.



Pada gambar di samping, ibu-ibu PKK dilatih untuk membuat batik agar ibu-ibu dapat menciptakan lapangan kerja. Hal tersebut menunjukkan bahwa warga negara memiliki hak untuk ....

14. Bacalah baik-baik teks di bawah ini!

Batik adalah identitas budaya Indonesia. Bahkan sejak tahun 2009, UNESCO telah mengakui bahwa batik merupakan warisan budaya bangsa Indonesia. Batik memiliki beragam motif yang mencerminkan identitas dari tiap-tiap daerah. Oleh karena itu, batik menjadi salah satu akar budaya bangsa Indonesia yang wajib dilestarikan oleh setiap warga negara Indonesia.

Gagasan utama dari teks di atas adalah ....

15. Masa ketika seorang anak mengalami perubahan fisik, sikap atau perilaku, dan pematangan organ reproduksi disebut masa ....

16. Proklamasi Kemerdekaan Indonesia merupakan peristiwa besar dalam sejarah yang setiap tahunnya diperingati bangsa Indonesia. Naskah teks Proklamasi Kemerdekaan Indonesia dibacakan presiden pertama Indonesia, Bapak Soekarno pada 17 Agustus 1945 pukul 10.00 WIB.

Naskah tersebut diketik oleh ....

#### E. URAIAN

17. Setiap orang termasuk anak-anak memiliki hak dan kewajiban sesuai perannya. Misalnya saja ketika berada di lingkungan sekolah. Terdapat hak dan kewajiban anak di sekolah sebagai siswa.

Tuliskan masing-masing 3 (tiga) contoh hak dan kewajibanmu di sekolah!

Jawab:

Hak :

1. ....
2. ....
3. ....

Kewajiban:

1. ....
2. ....
3. ....

18. Bacalah baik-baik bacaan di bawah ini!

Indonesia kaya akan budaya diantaranya karya tari. Setiap daerah memiliki karya tari kreasi yang berbeda-beda. Apakah yang dimaksud tari kreasi? Tari kreasi adalah tari yang gerakannya

merupakan perkembangan dari gerak tari tradisional. Tari kreasi tidak memiliki aturan tertentu, baik gerak maupun aspek lainnya yang terdapat dalam tarian.

Gagasan utama paragraf di atas adalah ....

Jawab: .....  
.....

19. Indonesia memiliki sejarah panjang dalam upaya memperoleh kemerdekaan. Oleh karena itu, mengisi kemerdekaan dalam rangka mempertahankan kemerdekaan merupakan suatu kewajiban yang penting selayaknya menggapai kemerdekaan itu sendiri.

Tuliskan 3 upaya yang kamu lakukan untuk mempertahankan kemerdekaan Negara Kesatuan Republik Indonesia!

Jawab:

1. ....
2. ....
3. ....

20. Perhatikan gambar di samping!

Jelaskan isi reklame pada gambar di samping.

Jawab:

.....  
.....



\* SEMOGA SUKSES! \*