

Estudiando otra sucesión de áreas

Observa con cuidado la siguiente sucesión de figuras y **dibuja** la Figura 3.

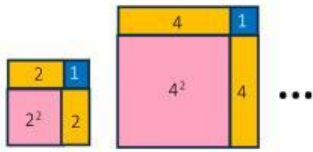




Figura: 1

Figura: 2


Figura 3




El área de la Figura 3 es =



El área de la Figura 10 es =



El área de la Figura n de esta sucesión es =



Explica tu estrategia.

¿Es la única manera de resolverlo? ¿por qué?

Marca la expresión con la que te identificas luego de esta actividad

