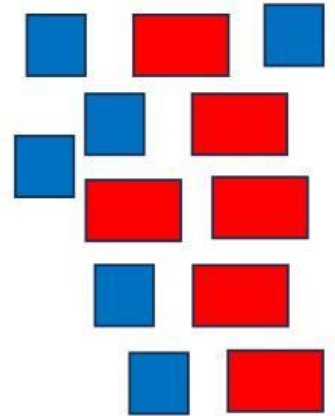

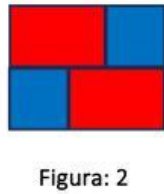
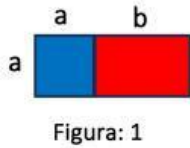


Estudiando otra sucesión de áreas

Observa con cuidado la siguiente sucesión de figuras y completa los espacios.



El área de la Figura 4 es =



El área de la Figura 20 es =



El área de la Figura n de esta sucesión es =



Explica tu estrategia.

¿Qué diferencias o similitudes puedes mencionar en tu estrategia para hallar el área de esta tarea y la tarea anterior? ¿por qué?

Marca la expresión con la que te identificas luego de esta actividad

