



Estudiando una sucesión de áreas

Observa con cuidado la siguiente sucesión de figuras y completa los espacios.

Considera que el área de  = a^2 y el área de  =

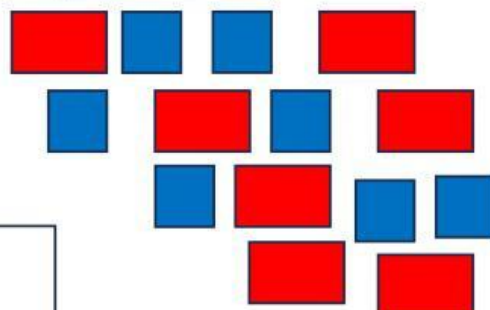
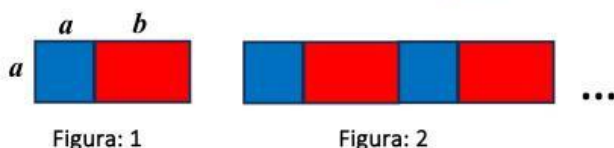



Figura 3



El área de la Figura 3 es =



El área de la Figura 4 es =




El área de la Figura 10 es =



El área de la Figura 114 es =



El área de cualquier Figura de esta sucesión es =



Explica tu estrategia.

Marca la expresión con la que te identificas luego de esta actividad

