


SUMATIF TENGAH SEMESTER GENAP
SEKOLAH DASAR ISLAM TERPADU AL USWAH
KECAMATAN JATIROGO KABUPATEN TUBAN
TAHUN PELAJARAN 2023/2024

Tanda tangan Orang Tua:	Mata Pelajaran : Matematika Kelas : Tanggal :, Maret 2024 Waktu : 90 Menit Nama Peserta :	Paraf Guru:  
--	--	--

I. Berilah tanda silang pada huruf a, b, c atau d yang paling benar !

1. 1, 4, 7, 10,

Lanjutan dari pola bilangan di atas adalah

- a. 11
- b. 12
- c. 13
- d. 14

2. 2, 6, 10, 14,

Lanjutan dari pola bilangan di atas adalah

- a. 20
- b. 18
- c. 16
- d. 15

3. 3, 6, 9, 12,

Lanjutan dari pola bilangan di atas adalah

- a. 18
- b. 17
- c. 16
- d. 15

4. 2, 7, 12, 17,

Lanjutan dari pola bilangan di atas adalah

- a. 24
- b. 22
- c. 23
- d. 21

5. 21, 16, 11, 6,

Lanjutan dari pola bilangan di atas adalah

- a. 5
- b. 3
- c. 2
- d. 1

6. 30, 24, 18, 12,

Lanjutan dari pola bilangan di atas adalah....

- a. 6
- b. 7
- c. 8
- d. 9

7. 22, 18, 14, 10,

Lanjutan dari pola bilangan di atas adalah

- a. 9
- b. 8
- c. 6
- d. 4

8. 50, 40, 30, 20,

Lanjutan dari pola bilangan di atas adalah

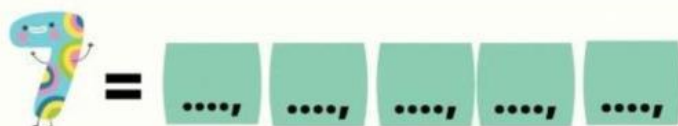
- a. 10
- b. 5
- c. 0
- d. 15

9. 2, 6, ..., ..., 18

Bilangan yang tepat untuk melengkapi pola bilangan di atas adalah

- | | |
|--------------|--------------|
| a. 9 dan 12 | c. 10 dan 14 |
| b. 10 dan 12 | d. 12 dan 14 |

10.





Bilangan yang tepat untuk mengisi kelipatan bilangan tersebut adalah....

- a. 7, 6, 5, 4, 3
- b. 3, 4, 5, 6, 7
- c. 7, 14, 21, 28, 35
- d. 7, 9, 11, 13, 15

Perhatikan dua bangun dibawah ini untuk menjawab soal no 11-13 !

11.



Bangun A bangun B

- a. Lebih luas dari
- b. Lebih sempit dari
- c. Sama luas dengan
- d. Lebih tebal dengan

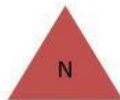
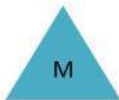
12.



Bangun X bangun Y

- a. Lebih luas dari
- b. Lebih sempit dari
- c. Sama luas dengan
- d. Lebih tebal dengan

13.

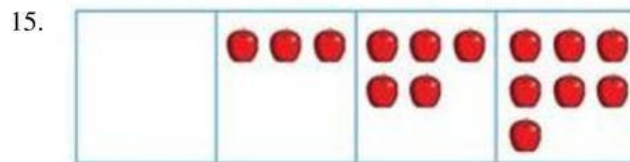
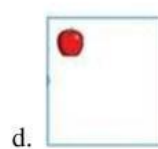
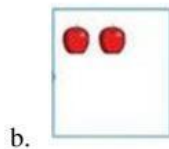
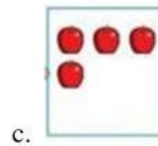
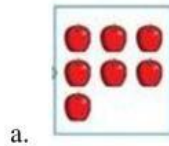


Bangun M bangun N

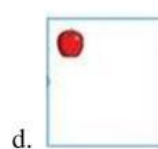
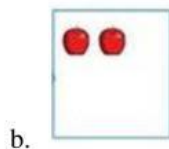
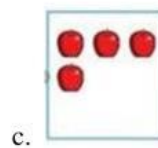
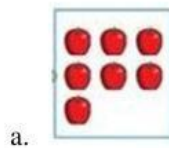
- a. Lebih luas dari
- b. Lebih sempit dari
- c. Sama luas dengan
- d. Lebih tebal dengan



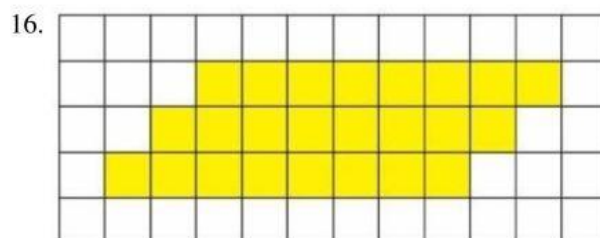
Gambar yang tepat untuk mengisi kotak yang kosong adalah.....



Gambar yang tepat untuk mengisi kotak yang kosong adalah.....

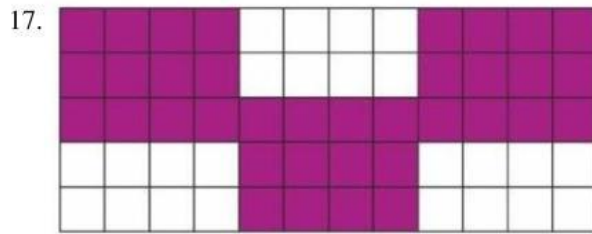


Perhatikan kolom yang bewarna berikut untuk menjawab soal no 16-19 !




Luas = Satuan

- a. 12
- b. 20
- c. 24
- d. 28



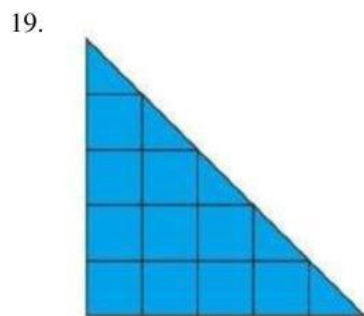
Luas = Satuan

- a. 12
- b. 20
- c. 34
- d. 36



Luas = Satuan

- a. 30
- b. 36
- c. 38
- d. 40



Luas = Satuan

- a. 12
- b. 12,5
- c. 14
- d. 14,5



Bilangan yang tepat untuk mengisi kotak yang kosong adalah.....

- a. 16 dan 30
- b. 18 dan 30
- c. 20 dan 40
- d. 22 dan 40


II. Isilah titik-titik di bawah ini dengan jawaban yang singkat dan benar!

Hitunglah kelipatan-kelipatan berikut dengan benar !

1. = 9,,,,

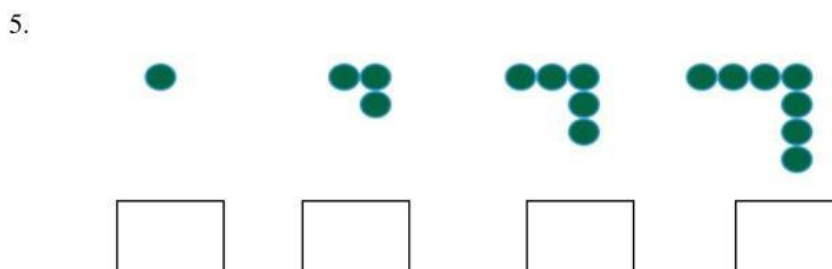
2. 15 = 15,,,,

Tentukan bilangan yang tepat untuk mengisi kotak yang kosong !



Gambar A dari pada gambar B


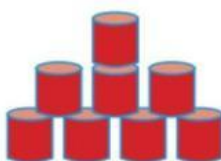
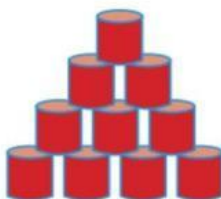
Isilah gambar berikut dengan nominal angka sesuai dengan jumlahnya !!!



6.



7.



8. $4 \text{ m}^2 = \dots\dots\dots \text{ dm}^2$

9. $7 \text{ hm}^2 = \dots\dots\dots \text{ dam}^2$

10. $9 \text{ dm}^2 = \dots\dots\dots \text{ cm}^2$