

LE FRAZIONI



ESERCIZIO 1. COMPLETA LA TABELLA

	NUMERATORE	DENOMINATORE
$\frac{3}{6}$		
$\frac{8}{9}$		
$\frac{2}{10}$		
$\frac{4}{5}$		
$\frac{3}{4}$		

ESERCIZIO 2. LEGGI LA FRAZIONE E RISPONDI ALLE DOMANDE

$$\frac{5}{11}$$

IN QUANTE PARTI E' STATO DIVISO L'INTERO?

QUANTE PARTI SONO STATE COLORATE?

$$\frac{2}{6}$$

IN QUANTE PARTI E' STATO DIVISO L'INTERO?


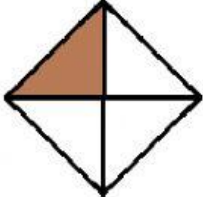

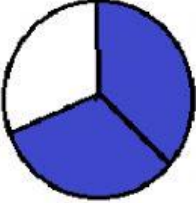
QUANTE PARTI SONO STATE COLORATE?

$$\frac{4}{9}$$

IN QUANTE PARTI E' STATO DIVISO L'INTERO?

QUANTE PARTI SONO STATE COLORATE?

ESERCIZIO 3. OSSERVA LE FIGURE E COMPLETA LA TABELLA

	NUMERATORE	DENOMINATORE	FRAZIONE
			<hr/>
			<hr/>
			<hr/>
			<hr/>