

# Centro Educativo en Computación San Bernabé

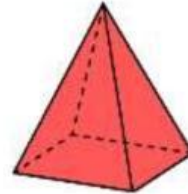
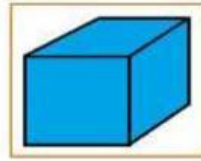
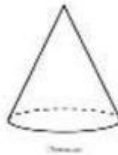
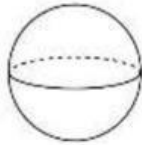
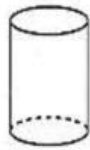
6to. Primaria, Expresión Artística  
Primer Bimestre, Examen Final

Nombre: \_\_\_\_\_

Clave: \_\_\_\_\_

Fecha: \_\_\_\_\_

- I. INSTRUCCIONES: complete lo que se le indica.  
Coloque las figuras donde corresponda



Cubo	Cilindro	Cono	Esfera	Pirámide

- II. Escriba el nombre de las siguientes figuras:

A

B

C

D

E

F

G



A

B

C

D

E

F

G

III. Escribe el nombre de las siguientes figuras tridimensionales.

