



UNIDAD EDUCATIVA FISCOMISIONAL "LA INMACULADA CONCEPCIÓN"

Hijas de la Caridad de San Vicente de Paúl

Ibarra-Ecuador

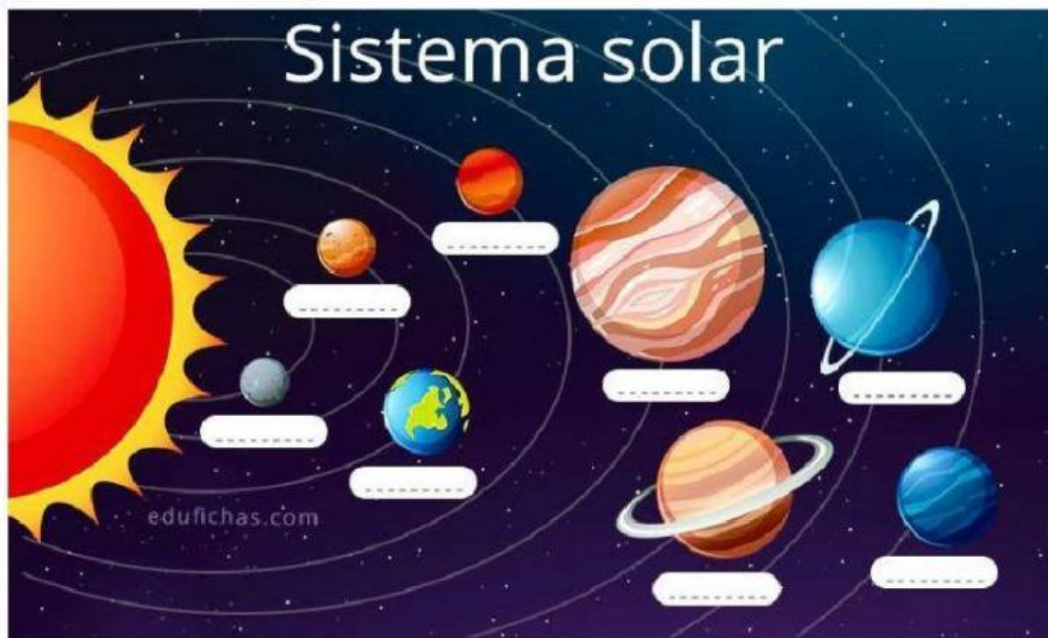
LUZ, FE, CIENCIA Y VIDA

Pedro Moncayo 5-45 y Bolívar telefax 062955139

Año lectivo 2021 - 2022

ESPACIO EXTERIOR

1. Escriba el nombre de los planetas del Sistema Solar



2. Elija la opción que corresponde:

- ¿Cuántos planetas hay en el Sistema Solar?
- ¿Cómo se llama nuestro planeta?
- ¿Cómo se llama el satélite natural de la Tierra?

3. Ubique las características de los movimientos de la Tierra en la casilla que corresponde:

el día y la noche

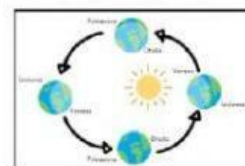
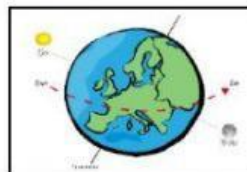
24 horas

alrededor del Sol

365 días

sobre su propio eje

las estaciones del año



Movimiento de rotación

Duración:	Se origina
Gira...	Imagen

Movimiento de traslación

Duración:	Se origina
Gira...	Imagen



UNIDAD EDUCATIVA FISCOMISIONAL "LA INMACULADA CONCEPCIÓN"

Hijas de la Caridad de San Vicente de Paúl

Ibarra-Ecuador

LUZ, FE, CIENCIA Y VIDA

Pedro Moncayo 5-45 y Bolívar telefax 062955139

Año lectivo 2021 - 2022

4. Relacione con una línea las fases de la Luna con su nombre:





Luna llena

Cuarto
menguante

Cuarto
creciente

Luna nueva

5. Ubique las estaciones del año, en la casilla correspondiente.

Primavera	Verano		
Invierno	Otoño	