







## Lembar Kerja Peserta Didik Matematika Kelas 4 (Bangun Datar)


Nama : \_\_\_\_\_

No Absen : \_\_\_\_\_

Jawablah dengan tepat!

1.	Aku sebuah bangun datar. Semua sisi dan sudutku ada 3. Aku adalah .....	
2.	Ciri-ciriku adalah memiliki 4 sisi, 4 sudut dan titik sudut, serta memiliki garis diagonal sama panjang.	
3.	Ciri-ciriku adalah memiliki 4 sisi, 4 sudut dan titik sudut, Keempat sudutku siku-siku. Memiliki 1 pasang sisi sejajar	
4.	Ciri-ciriku adalah memiliki 4 sisi, 4 sudut dan titik sudut, Keempat sudutku siku-siku. Keempat sisinya sama panjang	
5.	Ciri-ciriku adalah memiliki 4 sisi, 4 sudut dan titik sudut, Keempat sisinya sama panjang. Memiliki 2 diagonal sama panjang	
6.	Ciri-ciriku adalah memiliki 4 sisi, 4 sudut dan titik sudut, Keempat sisinya sama panjang. Memiliki 2 diagonal saling membagi sama panjang	

**Pasangkan dengan tepat!**



**Persegi**

**Belah Ketupat**

**Segi Tiga**

**Jajar genjang**

**Persegi Panjang**

**Trapesium**