



# EJERCICIO

## EL METRO Y EL CENTÍMETRO

NOMBRE \_\_\_\_\_ GRUPO: \_\_\_\_\_

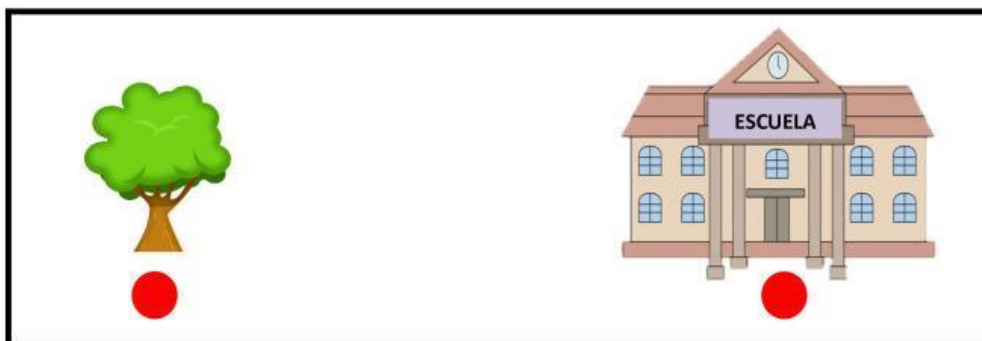
OBSERVA EL VIDEO Y CONTESTA



1. ¿Qué es medir?, elige la respuesta correcta:

- A) Medir es saber el tamaño que tienen los objetos, por ejemplo, el largo, el ancho o el alto.
- B) Es una unidad de medida más pequeña que el metro y se usa para cosas más pequeñas.
- C) Es el espacio que hay entre un punto de inicio y un punto final.

2. Une los puntos para marcar la longitud




3. Une con líneas de lo que usarías para medir los siguientes objetos.

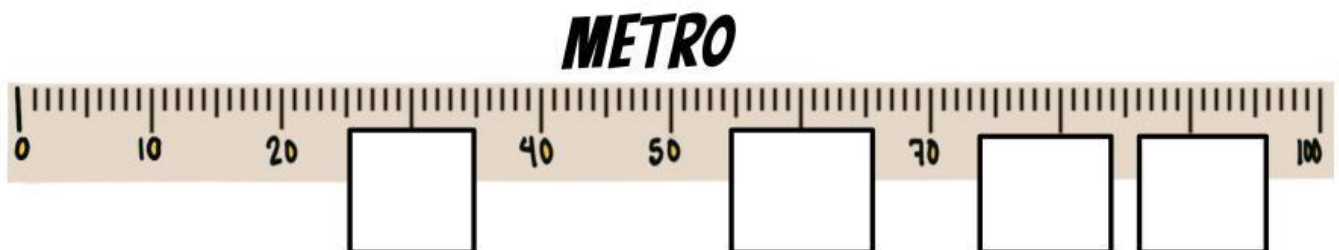


**EL METRO**

**LA REGLA**



4. Escribe los números que faltan en el metro.



5. Completa.



**1 metro = 100 centímetros**

**3 metros = \_\_\_\_ centímetros**


4. ¿Cuántos centímetros miden los siguientes objetos?



Mide \_\_\_\_\_ cm.



Mide \_\_\_\_\_ cm.



Mide \_\_\_\_\_ cm.