

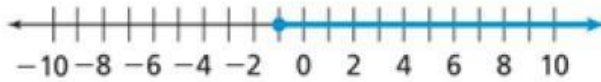
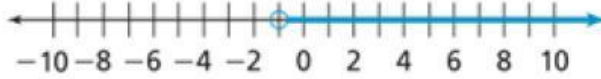
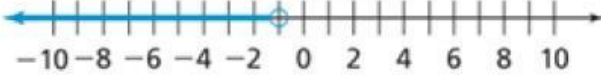


ورقة عمل (حل المتباينات متعددة الخطوات)

تدرّب وحلّ مسائل

7. استعمل المتباينة $18 < -3(4x - 2)$

أي من التمثيلات البيانية أدناه يوضح حل المتباينة؟

حل المتباينة $2(4y - 3) > -22$ هو

$$y > -2$$

$$y > 2$$

$$y < -2$$

$$y < 2$$