



UNIDAD EDUCATIVA BILINGÜE INTERNATIONAL SCHOOL
ÁREA DE RELACIÓN LÓGICO MATEMÁTICA
EXAMEN DEL TERCER TRIMESTRE
PRIMER AÑO DE EDUCACIÓN BÁSICA
AÑO LECTIVO 2023-2024



NOMBRE:

FECHA:

1.- Dictado de cantidades.

--	--	--	--	--

2.- Coloca el signo mayor o menor.

45		23
68		76
40		70

82		65
28		38
56		49

> > > < < <

3.- Ordena de menor a mayor las siguientes cantidades.

54	92	65	41	12

4.- Escribe el número antecesor, sucesor e intermedio.

Anterior

	47
	70

Entre

28		30
15		17

Posterior





59	
9	





UNIDAD EDUCATIVA BILINGÜE INTERNATIONAL SCHOOL
ÁREA DE RELACIÓN LÓGICO MATEMÁTICA
EXAMEN DEL TERCER TRIMESTRE
PRIMER AÑO DE EDUCACIÓN BÁSICA
AÑO LECTIVO 2023-2024





5.- Resuelve las siguientes sumas.

			
$4 + 9 = \square$		$6 + 8 = \square$	

6.- Observa y tacha los objetos de izquierda a derecha y resuelve las restas.

	
$9 - 3 = \square$	

	
$10 - 5 = \square$	