

LKPD



Kelompok

Nama anggota kelompok:



Petunjuk Penggunaan

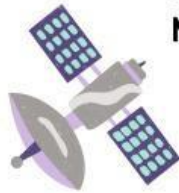
1. Pastikan setiap kelompok memiliki 4 kartu soal
2. Carilah Jawaban yang tepat dengan menggunakan kartu jawaban yang sudah disediakan
3. Tempelkan kartu jawaban dan kartu jawaban yang menurutmu paling tepat pada LKPD ini dengan kreasi masing-masing kelompok
4. Kemudian presentasikan hasil kerja kelompok



Susunan benda-benda langit yang terdiri dari Matahari, planet-planet, benda-benda langit lainnya disebut?



LKPD



Kelompok

Nama anggota kelompok:

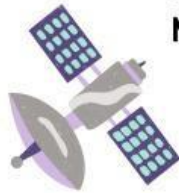


Petunjuk Penggunaan

1. Pastikan setiap kelompok memiliki 4 kartu soal
2. Carilah Jawaban yang tepat dengan menggunakan kartu jawaban yang sudah disediakan
3. Tempelkan kartu jawaban dan kartu jawaban yang menurutmu paling tepat pada LKPD ini dengan kreasi masing-masing kelompok
4. Kemudian presentasikan hasil kerja kelompok



LKPD



Kelompok

Nama anggota kelompok:

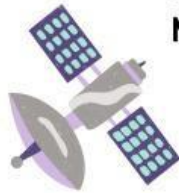


Petunjuk Penggunaan

1. Pastikan setiap kelompok memiliki 4 kartu soal
2. Carilah Jawaban yang tepat dengan menggunakan kartu jawaban yang sudah disediakan
3. Tempelkan kartu jawaban dan kartu jawaban yang menurutmu paling tepat pada LKPD ini dengan kreasi masing-masing kelompok
4. Kemudian presentasikan hasil kerja kelompok



LKPD



Kelompok

Nama anggota kelompok:



Petunjuk Penggunaan

1. Pastikan setiap kelompok memiliki 4 kartu soal
2. Carilah Jawaban yang tepat dengan menggunakan kartu jawaban yang sudah disediakan
3. Tempelkan kartu jawaban dan kartu jawaban yang menurutmu paling tepat pada LKPD ini dengan kreasi masing-masing kelompok
4. Kemudian presentasikan hasil kerja kelompok

