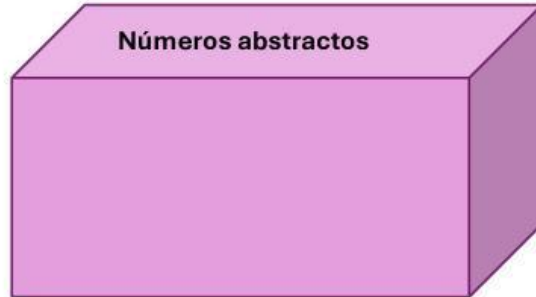
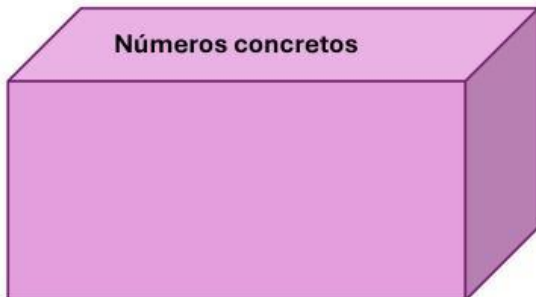


EXAMEN 5 II TRIMESTRE

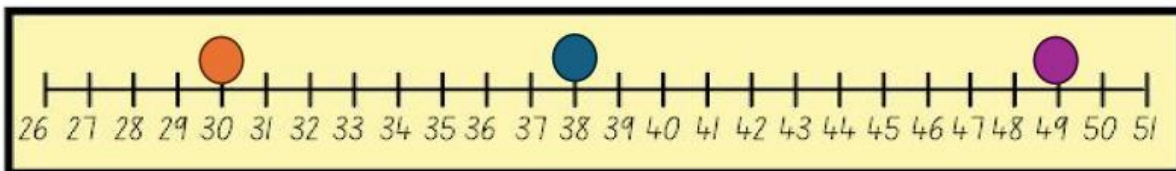
SABERES Y PENSAMIENTO CIENTÍFICO

Mueve los cuadros a las cajas correspondientes:

5 manzanas	6 colores	123, 340	34 pasteles	20	23 km
------------	-----------	----------	-------------	----	-------



Observa la siguiente recta y responde



- a) El sucesor del punto naranja es _____
- b) El antecesor del punto morado es _____
- c) El número que está ubicado en el punto azul es _____

23°

Undécimo

45°

Décimo octavo

65°

Vigésimo tercero

100°

Cuadragésimo quinto

18°

Nonagésimo

11°

Centésimo

90°

Sexagésimo quinto

Escribe en números romanos:

1 = _____
3 = _____
10 = _____
6 = _____
11 = _____
4 = _____
13 = _____

7 = _____
16 = _____
14 = _____
9 = _____
2 = _____
6 = _____
11 = _____

Escribe en arábigo:

MCMXXXIV=_____

MCDXXV=_____

MMXXV=_____

DL=_____

DLXXIII=_____

DCCCII=_____

Resuelve los siguientes problemas:

María tenía ahorrados \$18, 500, el lunes agregó \$2, 400, el martes gastó \$600 y el miércoles agregó a su ahorro \$5,350 ¿Cuánto tuvo al final de estos movimientos?

R= \$ _____

Un camión transporta 250 kg de carne. En la primera parada deja 53.45kg, en la segunda deja 87.2kg. ¿Cuántos kg de carne quedan en el camión luego de las dos paradas?

R= _____ kg de carne