

LUNES

MARTES

MIÉRCOLES

JUEVES


VIERNES

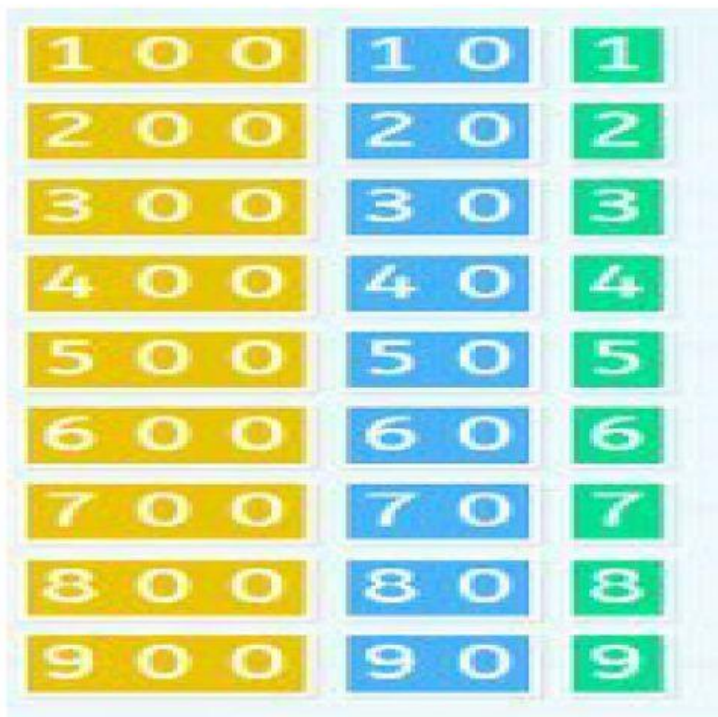
Hoy es

Ayer fue

Mañana será

1000







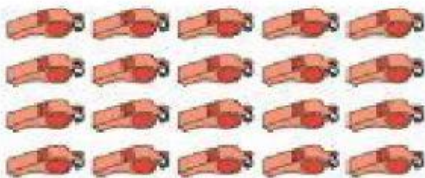
Escribimos :


	Centenas	Decenas	Unidades
MATERIAL DIDACTICO RAYITAS			

Write a multiplication sentence to describe each array.

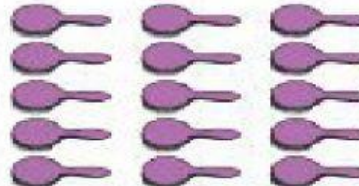
1) 
_____ × _____ = _____


2) 
_____ × _____ = _____

3) 
_____ × _____ = _____

4) 
_____ × _____ = _____

5) 
_____ × _____ = _____

6) 
_____ × _____ = _____

7) 
_____ × _____ = _____

8) 
_____ × _____ = _____

8	
4	


8	
5	


8	
6	


8	
7	


8	
8	


7	
1	





 $\square + \square = \square$ 


 $\square + \square = \square$ 

 $\square + \square = \square$ 

 $\square + \square = \square$ 

 $\square + \square = \square$ 

 $\square + \square = \square$ 

 $\square + \square = \square$ 

 $\square + \square = \square$

1	2	3	4	5	6	7	8	9	10
11	12	13	14	15	16	17	18	19	20
21	22	23	24	25	26	27	28	29	30
31	32	33	34	35	36	37	38	39	40
41	42	43	44	45	46	47	48	49	50
51	52	53	54	55	56	57	58	59	60
61	62	63	64	65	66	67	68	69	70
71	72	73	74	75	76	77	78	79	80
81	82	83	84	85	86	87	88	89	90
91	92	93	94	95	96	97	98	99	100

➤ Realiza estas sumas con llevada

	D	U
	4	5
+	1	6
<hr/>		

	D	U
	3	4
+	2	7
<hr/>		

	D	U
	1	8
+	5	2
<hr/>		

➤ Realiza estas restas

	D	U
	6	5
-	3	0
<hr/>		

	D	U
	7	8
-		4
<hr/>		

	D	U
	4	7
-	4	5
<hr/>		

➤ Escribe el número anterior y posterior

	50	
--	----	--

	79	
--	----	--

	59	
--	----	--

	70	
--	----	--

	60	
--	----	--









	65	
--	----	--

UNIDADES Y DECENAS

1

Cuenta las fichas azules y las rojas. Coloca en el primer cuadro cuantas fichas azules hay. Luego anota en el segundo cuadro, cuantas fichas rojas son y su valor. Por último suma las cantidades, escribe el total en el tercer recuadro. **Las fichas azules valen 1 unidad las rojas 1 decena=10 unidades.** Sigue el ejemplo



 $\boxed{6} + \boxed{10} = \boxed{16}$	 $\boxed{} + \boxed{} = \boxed{}$
 $\boxed{} + \boxed{} = \boxed{}$	 $\boxed{} + \boxed{} = \boxed{}$
 $\boxed{} + \boxed{} = \boxed{}$	 $\boxed{} + \boxed{} = \boxed{}$
 $\boxed{} + \boxed{} = \boxed{}$	 $\boxed{} + \boxed{} = \boxed{}$