

SOAL PRETEST LINGKARAN DAN BUSUR LINGKARAN

Nama:

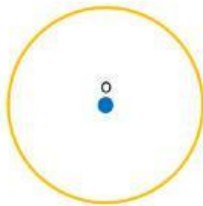
Kelas:

A. Latihan Soal

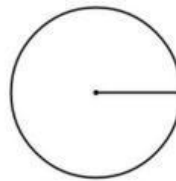
1. Hubungan semua titik dalam bidang datar yang berjarak sama dari suatu titik tetap dibidang tersebut disebut?

Tentukan jenis unsur lingkaran berdasarkan gambar di bawah ini!

2.



3.



4. Daerah yang dibatasi oleh dua jari- jari dan 1 busur lingkaran disebut...

A. Apotema
B. Tembereng
C. Juring
D. Busur Lingkaran

5. Daerah yang dibatasi satu tali busur dan satu busur lingkaran disebut...

A. Apotema
B. Tembereng
C. Juring
D. Busur Lingkaran

Beri tanda (v) pada kotak yang telah disediakan

6. Diameter adalah tali busur lingkaran yang melalui titik pusat lingkaran dan membagi lingkaran sama besar

Benar ☐

Salah ☐

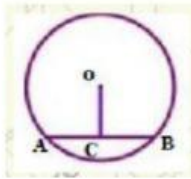
7. Jari- jari lingkaran selalu melalui pusat lingkaran

Benar ☐

Salah ☐

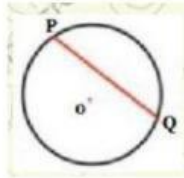
Buat garis ke jawaban yang benar

8. $OC=$



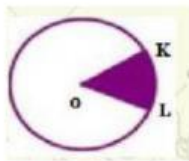
Tali Busur

9. $PQ=$



Juring

10. $OKL=$



Apotema