

MATEMATIKA ITU MENYENANGKAN



KELAS 1A

UPT SD NEGERI 238 GRESIK

BANGUN DATAR


Macam-macam Bangun Datar

Bangun ini dinamakan SEGITIGA.
Segitiga memiliki 3 sisi dan 3 titik sudut.



Bangun ini dinamakan PERSEGI.
Persegi memiliki 4 sisi dan 4 titik sudut. Persegi memiliki panjang sisi yang sama panjang.,

Bangun ini dinamakan LINGKARAN.
Segitiga memiliki 3 sisi dan tidak memiliki titik sudut.




Bangun ini dinamakan PERSEGI PANJANG .
Persegi panjang memiliki 4 sisi dan 4 titik sudut. Persegi memiliki 2 pasang sisi yang disebut panjang dan lebar.


Lihatlah video berikut ini!



MENGENAL BANGUN DATAR



yuk lingkari gambar yang berbentuk segitiga:



Name: _____



PASANGKAN BANGUN DATAR

Hubungkan titik di sebelah kiri dengan sebelah kanan sesuai dengan bangun datar yang benar!

Persegi panjang •



Persegi •



Lingkaran •



Segilima •



Segitiga •



Geometri : Bangun Datar

Perhatikan gambar bangun datar dibawah ini. Pilihlah nama bangun datar beserta jumlah sisinya



Nama

Jumlah sisi



Nama

Jumlah sisi



Nama

Jumlah sisi



Nama

Jumlah sisi



Nama

Jumlah sisi




Nama

Jumlah sisi



Nama

Jumlah sisi



Nama

Jumlah sisi



Nama

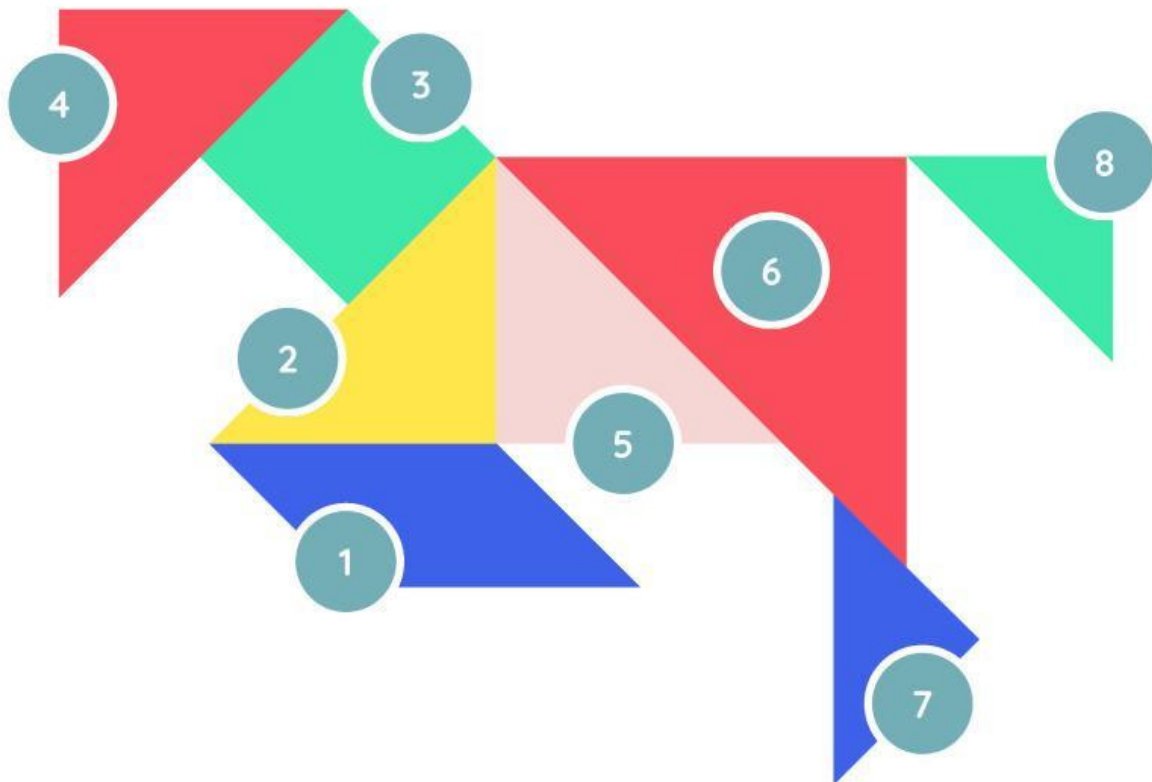
Jumlah sisi

Nama :

Kelas :

Bangun Datar

Pilihlah nama bangun sesuai nomor yang diberikan.



1

.....

4

.....

7

.....

2

.....

5

.....

8

.....

3

.....

6

.....