

## Examen del Tercer Trimestre – Estudios Sociales

Nombre: \_\_\_\_\_

Grado: \_\_\_\_\_

Fecha: \_\_\_\_/Febrero/2024

### 1. Escoja la respuesta correcta

- a. Un océano rodea las costas de un continente
- b. Un océano es más extenso y más profundo
- c. Un mar es más extenso y profundo
- d. Un mar rodea las costas de un continente

### 2.Cuál es el océano más grande del mundo

- a. O. Atlántico
- b. O. Indico
- c. O. Pacífico
- d. O. Antártico

### 3. En el siguiente mapa ubique el nombre de ellos 5 continentes



ASIA

AMERICA

OCEANIA

EUROPA

AFRICA

### 4. Ubique el nombre de los siguientes países en lo respectivos continentes

ECUADOR

EGIPTO

CHINA

ITALIA



### 5. Quien descubrió América y en qué año lo hizo

- a. Hernán Cortez, en 1492
- b. Vasco Núñez de Balboa, en 1492
- c. Cristóbal Colon, en 1492

### 6. Ubica en el continente americano el nombre de los siguientes exploradores



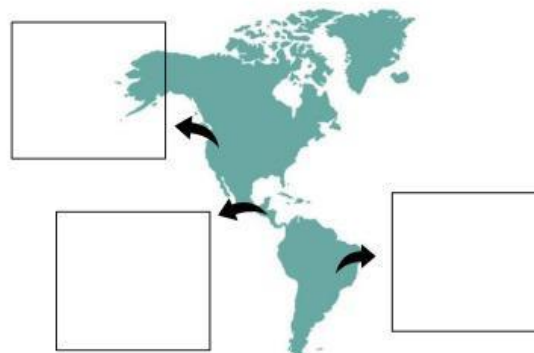
Hernán Cortez



Francisco Pizarro



Vasco N. Balboa




### 7. Escoja el grupo correcto

a. Las causas de la conquista fueron cambios políticos, sociales, económicos, religiosos y el mestizaje

b. Las causas de la conquista fueron cambios económicos, de clases, religiosos y políticos

c. Las causas de la conquista fueron cambios políticos, sociales, económico, el mestizaje y demográficos.

8. El mestizaje es la unión biológica de diferentes razas dando como resultados nuevas razas. En el siguiente diagrama ubique la combinación correcta para obtener el resultado.




Zambo



Español



Mulato




Indígena



Negro



Indígena



Español



Mestizo



Negro

Gracias

