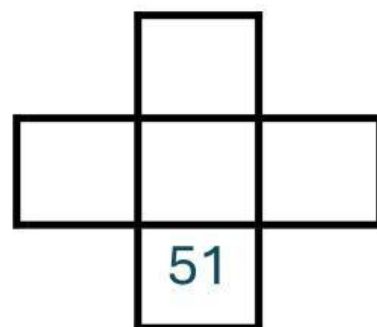
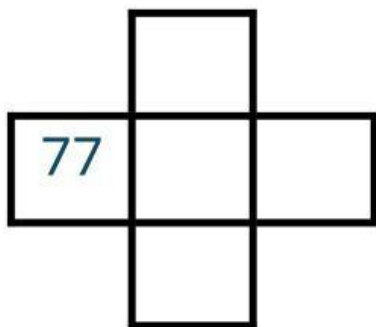
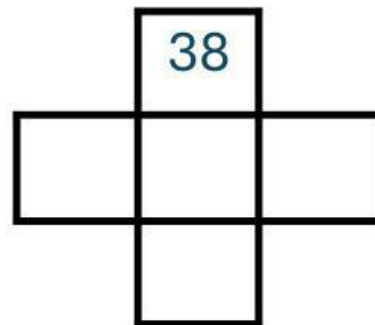
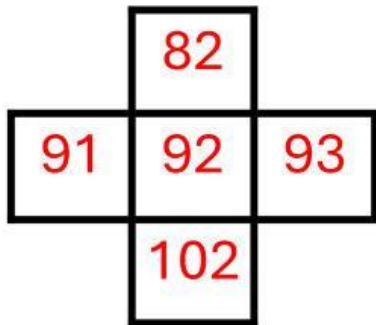


PATRONES NUMÉRICOS

1. Observa el ejemplo y escribe los números que faltan



2. Completa las siguientes sucesiones numéricas.

124	125	126						
-----	-----	-----	--	--	--	--	--	--

368	367	366						
-----	-----	-----	--	--	--	--	--	--

20	30	40						
----	----	----	--	--	--	--	--	--