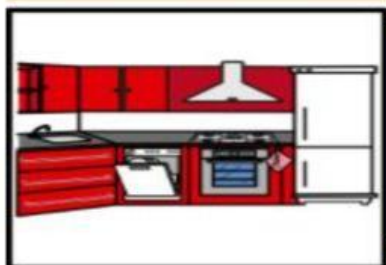




Relaciones con el medio natural y cultural

Curso:	Primero de Básica	Paralelo:	B
Fecha:		Docente:	Evelin Naula

1) Arrastra los objetos que pertenece a cada una de las dependencias de la casa



2) Selecciona sí o no en los implementos que utilizan según su profesión.



Lcda. Evelin Naula

3) Relaciona con una línea los medios de transporte por su lugar de circulación.



4) Relaciona con una línea el cuerpo humano con sus partes

Cabeza

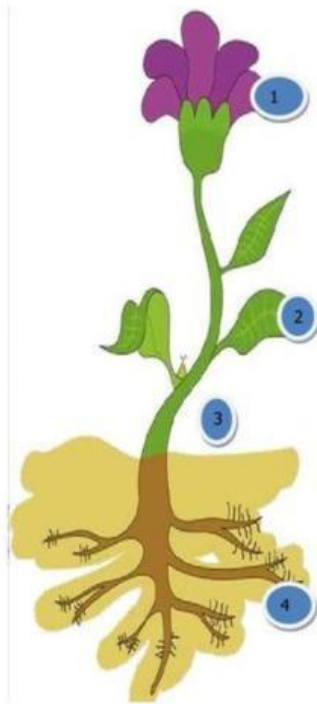
Tronco

Extremidades
superiores

Extremidades
inferiores



5) Coloca el numero en las partes de la planta



☐ Tallo

☐ Hoja

☐ Raíz

☐ Flor

6) Selecciona la respuesta correctamente según la clasificación de los animales.

