

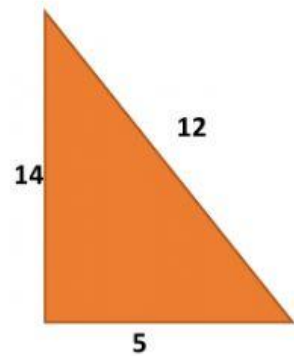
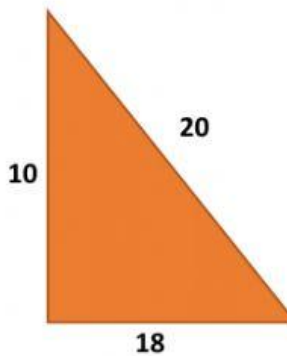
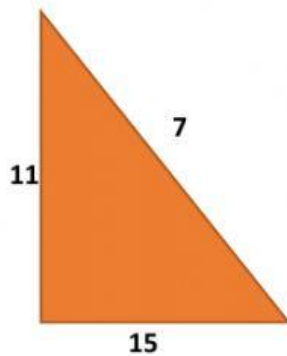
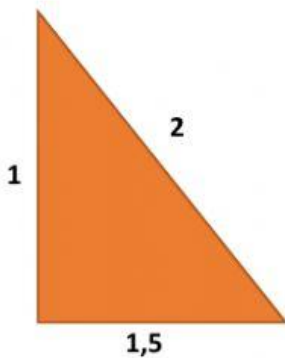
## EVALUACIÓN DEL TEOREMA DE PITÁGORAS.

1.- Seleccione la opción correcta en cuanto al concepto del Teorema de Pitágoras.

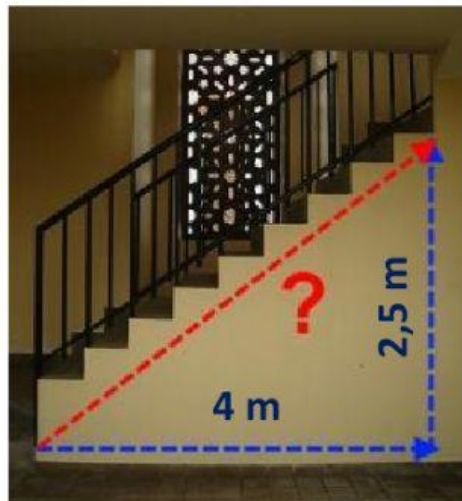
El cuadrado de la hipotenusa es igual al cuadrado de la suma de los catetos.

El cuadrado del cateto es igual al cuadrado de la suma de la hipotenusa.

2.- Seleccione los triángulos que están correctos con sus medidas.



3.- De que tamaño es la escalera si tenemos las siguientes medidas. Escoge la opción.



5

3,14

4,71

5,15