

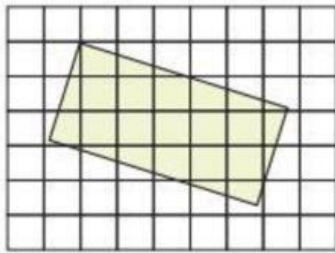
**LATIHAN SOAL MATEMATIKA
BANGUN DATAR**

Nama :

Kelas :

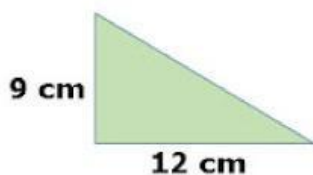
Jawablah pertanyaan dibawah ini dengan benar!

1. Perhatikan gambar berikut!



Berikut ini luas bangun datar persegi panjang berdasarkan petak satuan adalah petak satuan

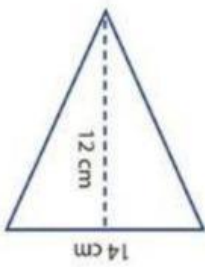
2. Hana membeli bingkai foto berbentuk persegi. Panjang sisi-sisinya adalah 40 cm. Maka Luas bingkai foto yang Hana miliki adalah cm^2
3. Buku gambarku berbentuk persegi panjang. Panjang buku 10 cm dan lebar 21 cm. Maka Luas buku gambar adalah cm^2
4. Luas persegi panjang 24 m^2 . Jika panjangnya 6 m, maka lebarnya adalah cm
5. Perhatikan gambar berikut!



Luas bangun segitiga berikut adalah cm^2

6. Leo memiliki bangun datar segitiga dengan panjang alas 8 cm dan tinggi 10 cm. Maka Luas segitiga Leo adalah cm^2

7. Luas segitiga 60 cm^2 . Jika tingginya 12 cm , maka panjang alasnya adalah cm^2
8. Jika sebuah segitiga panjang alasnya 14 m dan tingginya 12 m , maka Luas segitiga adalah cm^2
9. Luas suatu persegi panjang adalah 120 cm^2 . Jika panjangnya 20 cm , maka lebarnya adalah cm
10. Perhatikan gambar berikut!



Luas segitiga tersebut adalah cm^2