

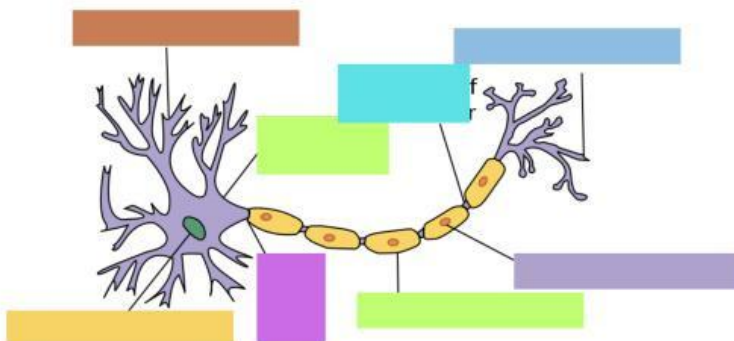
# LEMBAR KERJA PESERTA DIDIK

Nama: \_\_\_\_\_

Kelas : \_\_\_\_\_

Kerjakan Soal Di Bawah Ini!

- 1** Perhatikan gambar struktur sel syaraf berikut!  
Tariklah nama bagian yang sesuai dengan gambar



- |               |                  |
|---------------|------------------|
| Badan Sel     | Terminal Akson   |
| Nodus Ranvier | SEL Schwann      |
| Dendrit       | Nukleus          |
| Akson/Neurit  | Sellubung Mielin |

- 2** Buatlah Garis ke jawab yang benar

Neuron Sensorik

Meneruskan rangsangan dari neuron sensorik ke neuron motorik

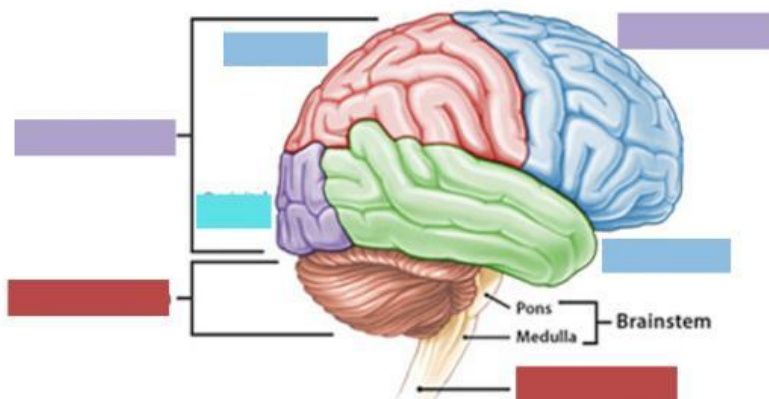
Neuron Motorik

Menghantarkan impuls dari saraf pusat ke efektor

Neuron Konektor

Menghantarkan impuls dari reseptor ke saraf pusat

- 3** Perhatikan gambar bagian sistem saraf pusat!  
Tariklah nama bagian yang sesuai dengan gambar



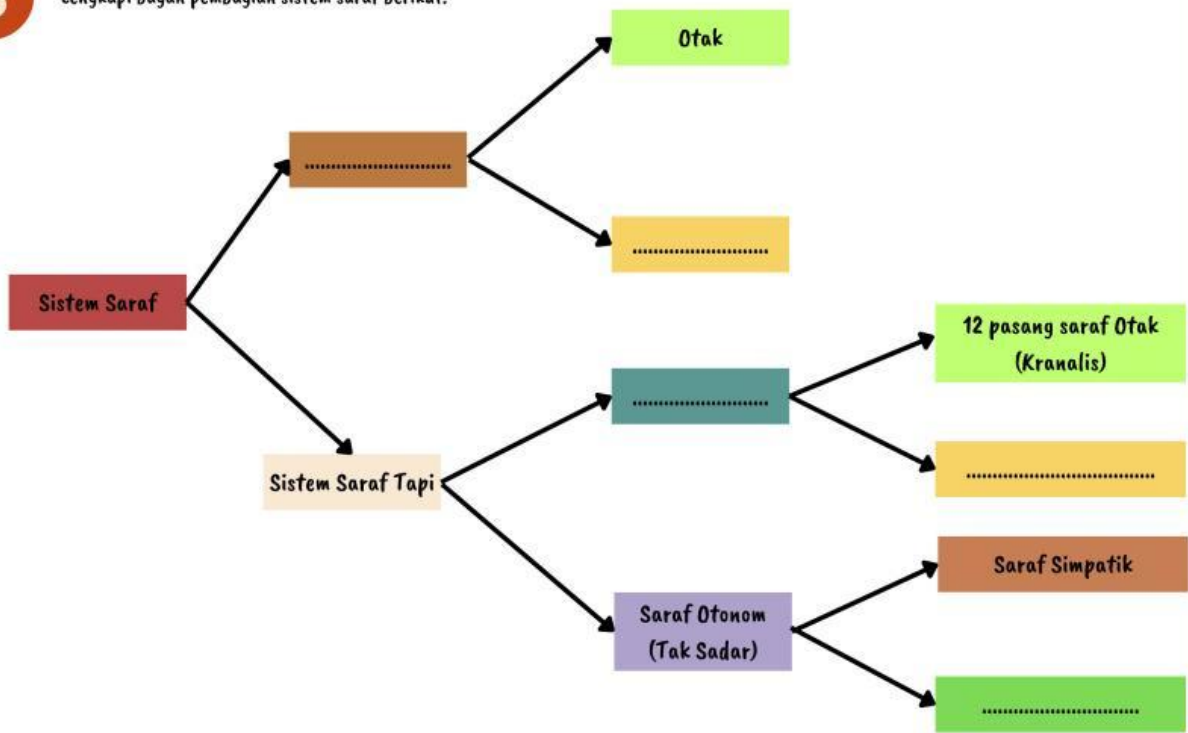
- |                        |
|------------------------|
| Lobus Frontalis        |
| Lobus Parietal         |
| otak kecil             |
| otak besar             |
| Lobus Oksipital        |
| Lobus Temporal         |
| Sumsum Tulang Belakang |

# LEMBAR KERJA PESERTA DIDIK

**4** Tariklah garis sesuai dengan pasangannya

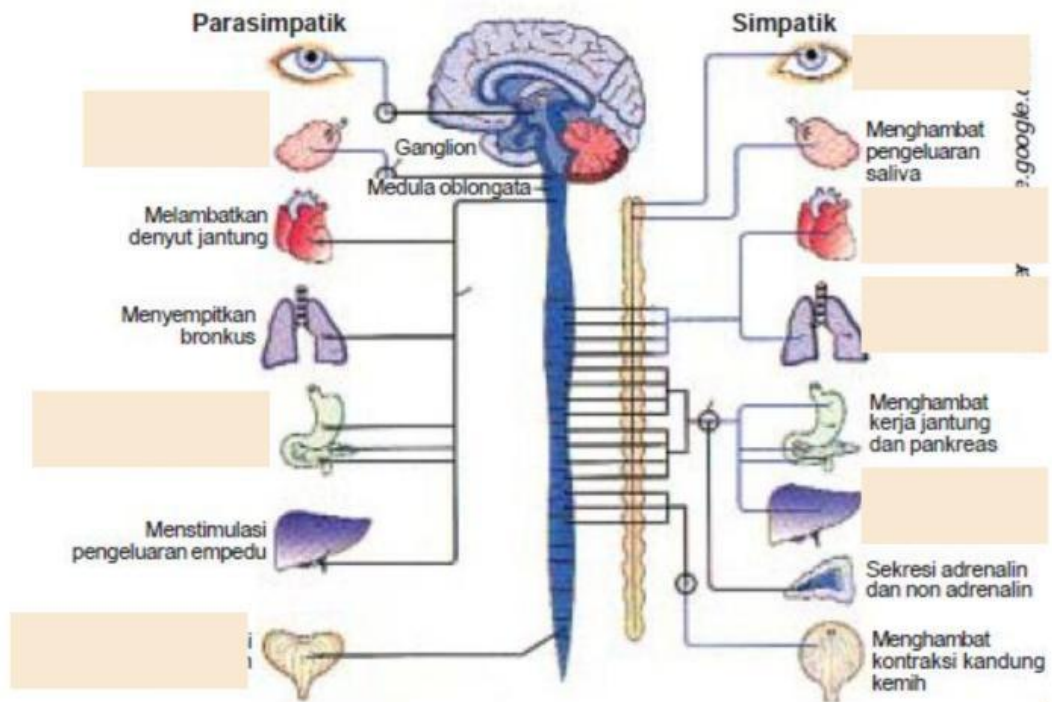
|                    |                        |         |                       |                                |
|--------------------|------------------------|---------|-----------------------|--------------------------------|
| Otot /Kelenjer     | Sunsum Tulang Belakang | Kulit   | Mengentuh Benda Panas | Tubuh Menjauh dari benda panas |
| Sistem Saraf Pusat | Impuls                 | Efektor | Reseptor              | Respon                         |

**5** Lengkapi bagan pembagian sistem saraf berikut!



# LEMBAR KERJA PESERTA DIDIK

6



- Jika sudah selesai Klik " Finish "
- Isi nama lengkap dan kelas
- kirim jawaban ke Email [dewiraraamelai02@gmail.com](mailto:dewiraraamelai02@gmail.com)