

DATOS INFORMATIVOS			
Estudiante:			Año lectivo 2023-2024
Asignatura:	MATEMATICAS		
Curso:	SEGUNDO AÑO	Paralelo:	"A"
Docente:	Lcda. Rosario Guachamboza		Fecha: 22/12/2023
Instrucciones			
Antes de empezar a responder lea detenidamente cada pregunta. ▶ La prueba tiene una valoración de 10/10 puntos.			
Dominio / Destreza	Resuelvo adiciones y sustracciones y dar solución a problemas matemáticos sencillos del entorno, aplico de manera razonada la composición y descomposición de unidades, decenas, para establecer relaciones de orden ($=$, $<$, $>$) calcular adiciones y sustracciones y dar solución a problemas matemáticos sencillos del entorno.		
Objetivo:	Aplicar estrategias de conteo, de procedimientos de cálculos de suma y resta del 9 al 50 para resolver de forma colaborativa problemas cotidianos en su entorno.		
CUESTIONARIO			
Técnica de evaluación:	Prueba Escrita	Instrumento de evaluación:	Rúbrica de Evaluación

COMPLETACION

1. Realizo la operación de las sumas y restas de las decenas. (1p)

	D	U
+	3	3
	2	4

	D	U
+	4	5
	2	2


	D	U
+	6	5
	2	2

	D	U
-	5	6
	3	1

	D	U
-	8	6
	3	2

	D	U
-	6	4
	3	2


2. Completo la serie numérica del 1 al 40. (1p)



3. Escribo el número mayor, anterior y el que está entre. (1p)

Anterior		Entre		Posterior	
<input type="text"/>	16	12	<input type="text"/>	14	11 <input type="text"/>
<input type="text"/>	13	17	<input type="text"/>	19	18 <input type="text"/>

4. Pinto la figura que tiene los tres lados del color amarillo, el interior del círculo con verde y el exterior del cuadrado con azul. (1p)



5. Ubico los números en la tabla posicional. (1p)

	D	U
$7U + 4D$	<input type="text"/>	<input type="text"/>
$3U + 5D$	<input type="text"/>	<input type="text"/>

6. Completo la tabla de descomposición de números. (1p)


CANTIDADES	D	U
15	1d	5u
25		
10		
37		
19		
45		
28		

7. Coloco el signo $>$, $<$ o $=$ según corresponda. (1p)


12	<input type="text"/>	16
19	<input type="text"/>	19
20	<input type="text"/>	18
17	<input type="text"/>	11
12	<input type="text"/>	12
13	<input type="text"/>	10

SELECCIÓN

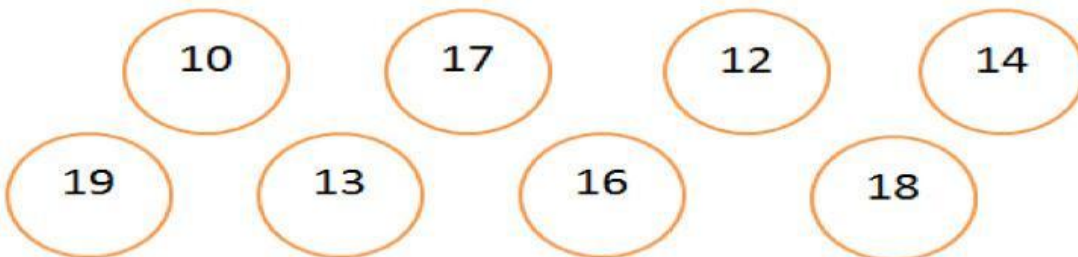
8. En la figura, ¿Cuántos pescado hay en total? (1p)
- 3 decena de pescados.
 - 10 unidades de pescado.
 - 30 decenas de pescado



9. ¿Enumerar en qué posición se encuentra cada uno? (1p)



10. Pinto los números mayores que 15 y tacho los números menores que 15. (1p)



ELABORADO POR DOCENTE	REVISADO POR COMISION PEDAGOGICA	VALIDADO POR RECTOR (E)
DOCENTE: Lcda. Rosario Guachamboza	Nombre: Lcda. Rebeca Quishpe	Nombre: Lcdo. Amable Caysabanda
Firma:	Firma:	Firma:

