

HISTORIA 6

CULTURAS DE MESOAMÉRICA

Nombre: _____

Resuelve cada actividad siguiendo cada una de las instrucciones:

Observa el mapa y completa cada frase escribiendo sobre las líneas.



San Lorenzo
Veracruz
Oaxaca
Tabasco
cálido
Golfo de México
La Venta
lluvioso
Tres Zapotes
agricultura

Los **olmecas** se establecieron en los estados de _____ y _____, en una zona que colindaba, al norte, con el _____ y, al sur, con el estado de _____.

Sus principales centros ceremoniales fueron _____, _____ y _____. El clima de esta zona era _____ y _____, lo que favoreció el desarrollo de la _____.

Relaciona con líneas las columnas.

Mayas

Teotihuacanos

Zapotecas

Teotihuacán

Monte Albán

Palenque

Completa el esquema colocando en el espacio el recuadro correcto.

Valle de Oaxaca e istmo de Tehuantepec	Aridoamérica	Península de Yucatán	Aztlán	Altiplano central
Teotihuacán	Huasteca potosina e Hidalgo	Monte Albán	Valle de México	Palenque, Copán y Tikal
Grandes edificaciones	Grandes construcciones	Sistemas de registro y alfarería	Imponentes construcciones, calendarios.	Calendario y escritura

Mayas	Teotihuacanos	Zapotecas	Toltecas	Mexicas o aztecas
Se situaron en				
principales centros fueron				
Algunos aportes fueron				

Responde seleccionando una respuesta correcta a las siguientes preguntas:

¿Qué culturas se desarrollaron durante el Posclásico?

¿De qué región provenían?

¿Dónde se establecieron?

Mueve el nombre de la cultura mesoamericana corresponde cada imagen:

Olmecas

Mixtecas


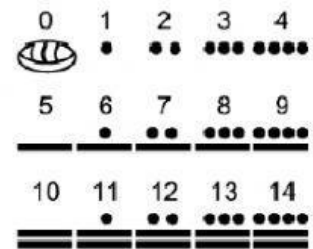

Mayas

Aztecas

Teotihuacanos

Zapotecas

Toltecas



Templo Mayor