





Parte 1: Los animales invertebrados. Desplace el nombre del grupo de invertebrado a las características que le corresponde

Moluscos	Poríferos	Anélidos	Artrópodos	Equinodermos	Cnidarios

Parte 2: Los animales vertebrados. Con una línea señala a cuál grupo de vertebrado pertenece cada uno de los organismos presentados.

Pingüinos		Anfibios
Ajolote		Mamíferos
Dragón de Komodo		Peces
Ornitorrinco		Aves
		Reptiles

Parte 3: Las plantas sin semilla. Seleccione la opción correcta.

Los musgos poseen vasos conductores.

Los helechos poseen vasos conductores.

Los pteridófitos se reproducen por

Pertenece al grupo de plantas sin semillas.