

1. DE IZQUIERDA A DERECHA, INDICA LA POSICION CORRESPONDIENTE DE LOS NIÑOS

¿HAGAMOS UNA FILA!




3° 2° 5° 4° 1°

2. COLOREA LA POSICION QUE INDICA

Encierra en un círculo al tercer y sexto gato.



Colorea a la quinta y novena flor.



3. Completa el cuadro con los números que faltan del 1 al 100.

1		3		5		7		9	10
	12		14		16		18		20
21		23	24	25		27		29	
	32	33			36	37	38		40
41		43	44	45			48		50
	52	53		55	56	57	58	59	
61		63	64	65		67	68		70
71		73		75	76		78	79	
	82	83		85	86	87		89	90
91	92		94		96	97	98		100

4. RESUELVE LAS SIGUIENTES SUMAS

$$\begin{array}{r} 14 \\ + 32 \\ \hline \square\square \end{array}$$

$$\begin{array}{r} 34 \\ + 11 \\ \hline \square\square \end{array}$$

$$\begin{array}{r} 50 \\ + 26 \\ \hline \square\square \end{array}$$

$$\begin{array}{r} 12 \\ + 12 \\ \hline \square\square \end{array}$$



CURSO: 3.EGB A/B

ASIGNATURA :Matemática

MES: Enero

5. RESUELVE LAS SIGUIENTES RESTAS



$$\begin{array}{r} 4 \\ -3 \\ \hline \square \end{array}$$



$$\begin{array}{r} 3 \\ -1 \\ \hline \square \end{array}$$



$$\begin{array}{r} 5 \\ -4 \\ \hline \square \end{array}$$



$$\begin{array}{r} 2 \\ -1 \\ \hline \square \end{array}$$







$$\begin{array}{r} 5 \\ -3 \\ \hline \square \end{array}$$



$$\begin{array}{r} 3 \\ -1 \\ \hline \square \end{array}$$

6. OBSERVA LA IMAGEN Y ENCIERRA LA CANTIDAD CORRESPONDIENTE

	
0 1 2	3 4 2
	
5 4 3	3 2 4

7. DICTADO DE CANNTIDADES

A) _____

C) _____

B) _____

D) _____

Elaborado por: Lic. Cecilia Méndez / Lorena Tapia