



AÑO LECTIVO 2023 – 2024
EVALUACIÓN TERCER PARCIAL
MATEMÁTICA


Docente:

Fecha:

Nombre del estudiante:

Curso:







2do EGB "A-B"





Haz más de eso que te hace feliz.




1. Realizar las siguientes sumas mediante el conteo simple

 + 	
 + 	
 + 	

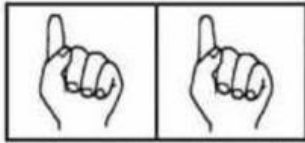
 +  =
--

 +  =
--

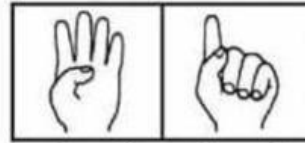
 +  =
--



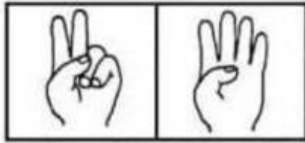
2. Realizar las siguientes sumas



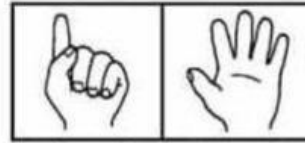
$$\square + \square = \square$$



$$\square + \square = \square$$



$$\square + \square = \square$$



$$\square + \square = \square$$



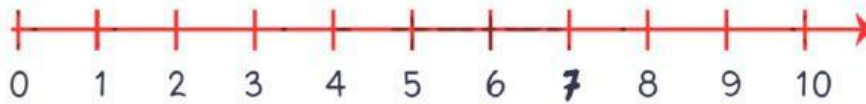
$$\square + \square = \square$$



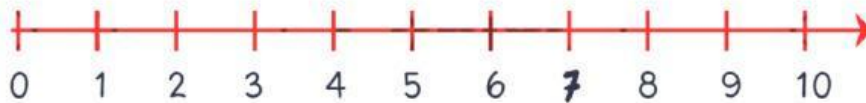
$$\square + \square = \square$$

3. Resolver las siguientes sumas haciendo uso de la recta numérica y escribe el resultado

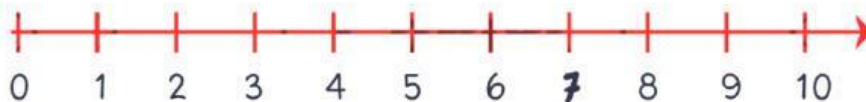
$$3 + 6 =$$



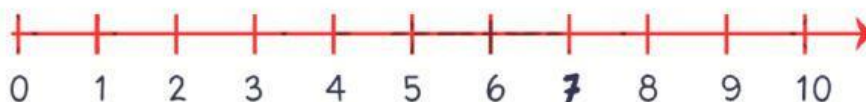
$$4 + 4 =$$



$$1 + 9 =$$















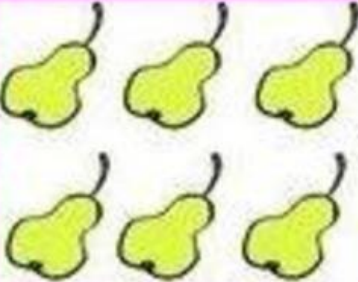



$$7 + 3 =$$





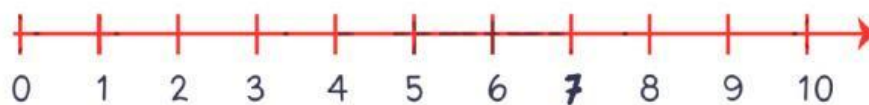
4. Realizar las siguientes restas mediante el conteo simple

 $-$  $=$	
 $-$  $=$	
 $-$  $=$	
 $-$  $=$	
 $-$  $=$	
 $-$  $=$	
 $-$  $=$	
 $-$  $=$	



5. Resolver las siguientes restas haciendo uso de la recta numérica y escribe el resultado

$$7 - 5 =$$



$$10 - 7 =$$



$$4 - 1 =$$



$$9 - 7 =$$

