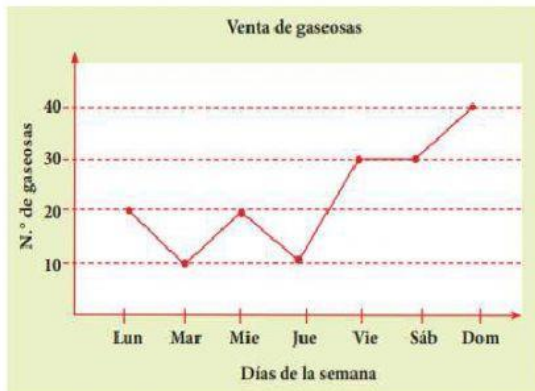


Diagramas de líneas

1. Observa el gráfico y responde.



a. ¿Qué día se vendió más gaseosas?

b. ¿Cuántas gaseosas se vendieron los días lunes y martes?

c. ¿Qué días se vendieron 30 gaseosas?

d. ¿Qué días se vendieron menos gaseosas?

e. Completa la tabla de frecuencia de acuerdo al gráfico.

2. Observa la tabla de frecuencia y responde.

Estudiantes en cada grado

Grado	Nº de Estudiantes
1º	21
2º	27
3º	18
4º	27
5º	30

a. ¿Cuántos estudiantes hay en 1º más que en 3º?

Hay estudiantes más en

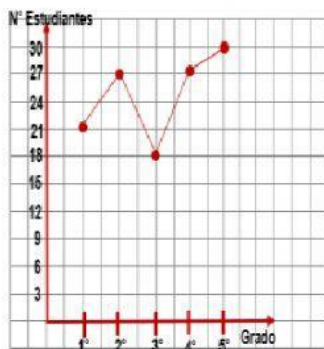
b. ¿Cuántos estudiantes hay entre 4º y 5º?

Hay estudiantes

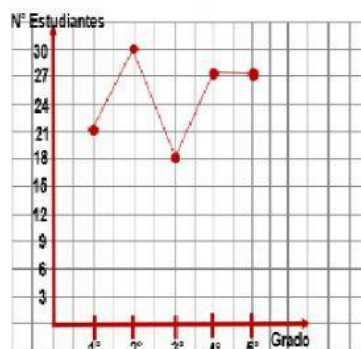
c. ¿Cuántos estudiantes hay entre los cinco grados?

Hay estudiantes

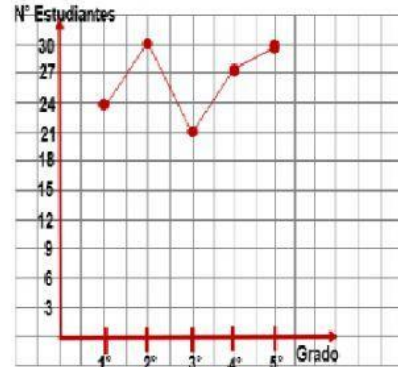
d. ¿Cuál diagrama de líneas muestra la información de la tabla de frecuencia?



A.



B.



C.