






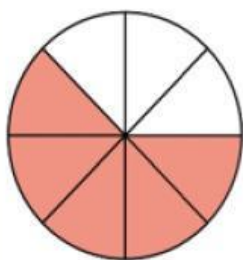


# TALLER VIRTUAL

1.- Observa las figuras y une con líneas a la fracción correcta

1.		a.	$\frac{1}{2}$ un medio
2.		b.	$\frac{1}{3}$ un tercio
3.		c.	$\frac{1}{4}$ un cuarto
4.		d.	$\frac{1}{5}$ un quinto
5.		e.	$\frac{1}{6}$ un sexto
6.		f.	$\frac{1}{8}$ un octavo
7.		g.	$\frac{1}{10}$ un décimo

2.- Observa las figuras cuantos espacios están pintados y escribe la fracción correcta



$$\frac{5}{8}$$

