



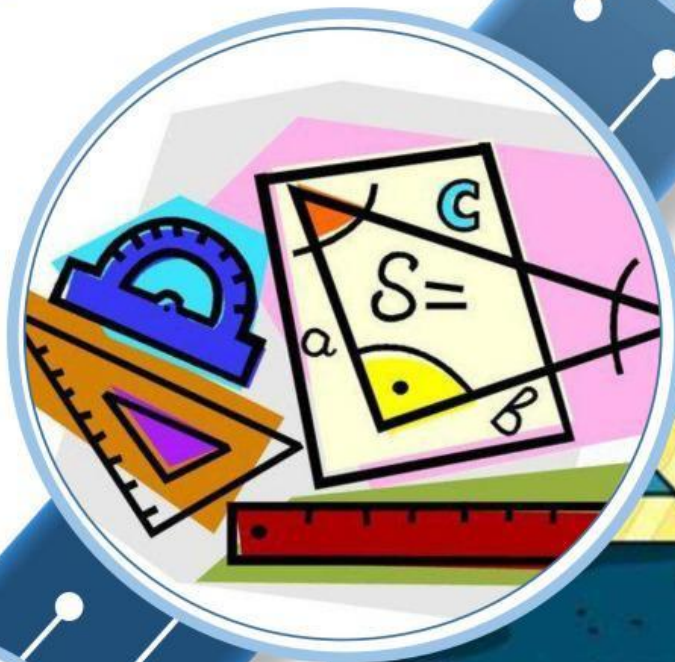
ARI ALFANDO

Lembar Kerja Peserta Didik Elektronik (E-LKPD)

MATEMATIKA

Berbasis *HOTS* Berbantuan *Liveworksheet*

Segi Tiga dan Segi Empat



SMP/MTS
KELAS
VIII



MATERI PEMBELAJARAN 2



Kekongruenan Segitiga Siku-Siku

Dua segitiga siku-siku dikatakan kongruen jika sisi-sisi dan sudut-sudut yang bersesuaian sama besar. Artinya jika kita mempunyai dua segitiga siku-siku, dan kita dapat membuktikan bahwa sisi-sisi dan sudut-sudut yang bersesuaian sama besar, maka kita dapat mengatakan keduanya kongruen.

Pada $\triangle ABC$ dan $\triangle DEF$, jika
$$\begin{cases} \angle C = \angle F = 90^\circ \\ AB = DE \\ \angle B = \angle E \end{cases}$$

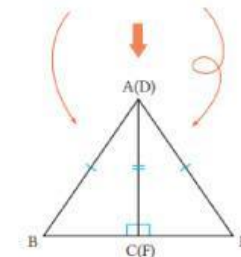
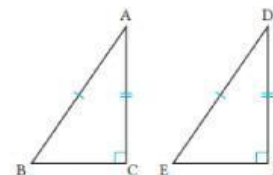
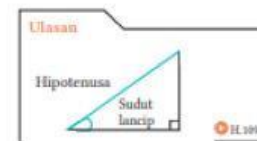
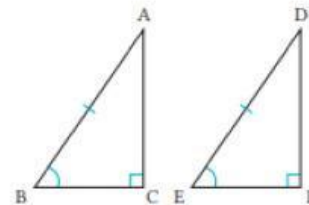
Dapatkah kita menyatakan bahwa $\triangle ABC \cong \triangle DEF$?
Jelaskan!

Seperti terlihat pada gambar, pada dua segitiga siku-siku, jika panjang hipotenusa yang bersesuaian adalah sama besar dan sudut lancip yang bersesuaian juga sama besar, maka kedua segitiga tersebut kongruen.

Selanjutnya, pada dua segitiga siku-siku, mari kita perhatikan kasus ketika panjang hipotenusa yang bersesuaian adalah sama besar dan sisi-sisi lain yang bersesuaian juga sama panjang.

Pada $\triangle ABC \cong \triangle DEF$
$$\begin{cases} \angle C = \angle F = 90^\circ \\ AB = DE \\ \angle B = \angle E \end{cases}$$

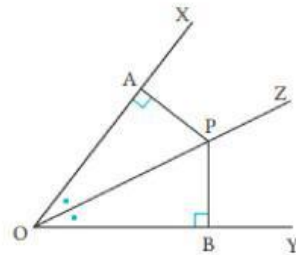
Dalam kasus ini, ketika kita membalik $\triangle DEF$ dan mengimpitkan sisi AC dan DF menjadi sisi yang sama, maka $\angle C = \angle F = 90^\circ$, sehingga tiga titik $B, C(F), E$ terletak pada satu garis dan $\triangle ABE$ terbentuk.



Contoh

Menganalisis

- 1) Dari titik P yang terletak pada garis bagi OZ dari $\angle XOY$, buatlah dua garis tegak lurus ke sisi OX dan OY, dan misalkan secara berturut-turut A dan B adalah titik potongnya. Buktikan bahwa $PA = PB$.



Jawaban

Mengorganisasikan

Pada $\triangle AOP$ dan $\triangle BOP$, berdasarkan yang diketahui,

$$\text{Maka } \angle PAO = \angle PBO = 90^\circ \quad \textcircled{1}$$

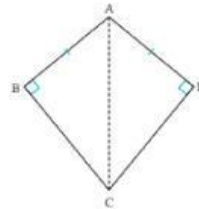
$$\angle AOP = \angle BOP \quad \textcircled{2}$$

dan OP merupakan sisi yang sama $\textcircled{3}$

Dari $\textcircled{1}$, $\textcircled{2}$, dan $\textcircled{3}$, karena kedua segitiga siku-siku memiliki panjang hipotenusa yang bersesuaian sama panjang dan sudut lancip yang bersesuaian sama besar, maka $\triangle AOP \cong \triangle BOP$. Dengan demikian, $PA = PB$.

Menganalisis

2) Dari Pada segi empat ABCD yang terdapat di gambar sebelah kanan, buktikan bahwa jika $AB = AD$ dan $\angle B = \angle D = 90^\circ$, maka $BC = DC$.



Jawaban

Mengorganisasikan

Dari asumsi $\triangle ABC$ dan $\triangle ADC$, $AB = AD$ ①

$\angle B = \angle D = 90^\circ$ ②

AC sisi persekutuan ③

Dari (1), (2), dan (3), dan aturan kekongruenan sisi-sudut-sisi, maka $\triangle ABC \cong \triangle ADC$, sehingga $BC = DC$.

Perhatikan video pembelajaran berikut ini untuk menambah pemahaman ananda :



Tugas kelompok



Klik Disini



latihan mandiri

Klik Disini




MATEMATICA

$$3x^2 + y^2 - 3 = 2z$$



$$\frac{3x+2x}{g-2x}$$

$$\sqrt{16x}$$



$$\pi = 3.14159 \quad b^2 = c^2 + 2bc$$