



# LKPD

KELAS 2  
FASE A

Nilai Tempat Bilangan

SDN 1 WONOBOYO

**NAMA KELOMPOK:.....**

**ANGGOTA:.....**

1. Tuliskan identitas kalian dengan lengkap dan jelas!
2. Baca petunjuk pengisian LKPD dan langkah-langkah kegiatan dengan teliti!
3. Diskusikan bersama kelompok kalian!



**Tulis alat dan bahan percobaan!**





**Tulis langkah-langkah kegiatan!**



## Soal Evaluasi:

I. Tentukan angka sesuai dengan nilai tempatnya!

1.  $35 = \dots$  puluhan +  $\dots$  satuan

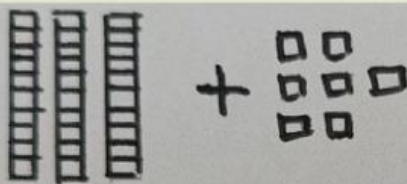

2.  $24 = \dots$  puluhan +  $\dots$  satuan

3.  $83 = \dots$  puluhan +  $\dots$  satuan



4.  $57 = \dots$  puluhan +  $\dots$  satuan

5.  $19 = \dots$  puluhan +  $\dots$  satuan

II. Tuliskan banyaknya kelompok kubus tersebut!

1.  + 

+  =

2.  + 

+  =