



UNIDAD EDUCATIVA BILINGÜE ELEMENTARY SCHOOL  
"LEADER KIDS"

Calle: Bolívar - Chone - Manabí - Ecuador

## Third Trimester Exam

Student's Name		Grade	4to
Teacher	Myriam Velásquez.	Subject	Matemáticas
Date			

### Indicación:

- ✓ El examen tiene una valoración de 10 puntos.

**1. SELECCIONA LA OPERACIÓN QUE UTILIZARÍAS PARA RESOLVER LOS SIGUIENTES PROBLEMAS. NO OLVIDES DE DAR LA SOLUCIÓN.**

- Pablo tiene 16 llaveros y su hermana le regala cuatro más. ¿Cuántos llaveros tiene ahora?

Suma	Resta	Multiplicación	División
------	-------	----------------	----------

- Carlos tiene seis paquetes con nueve bolígrafos cada uno. ¿Cuántos bolígrafos tiene Carlos?

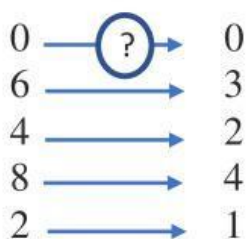
Suma	Resta	Multiplicación	División
------	-------	----------------	----------

- 72 personas van de viaje en microbuses de 9 plazas. ¿Cuántos microbuses necesitan?

Suma	Resta	Multiplicación	División
------	-------	----------------	----------

**2. Una con líneas PARA CADA CASO ENCUENTRE LA RELACIÓN NUMÉRICA.**

x	y
0	0
5	15
8	24
10	30

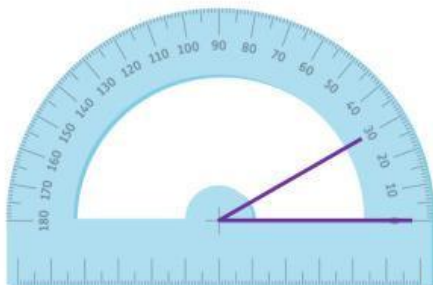


-6 o ÷4		×3		÷2
---------	--	----	--	----

**3. RESUELVA LAS SIGUIENTES OPERACIONES BÁSICAS CON NÚMEROS NATURALES Y DECIMALES Y SELECCIONE EL RESULTADO CORRECTO.**

$36 \div 6$	$11 \div 2$	$1,42 + 0,53$	$3,35 - 2,08$	$5698 \times 45$
<u>7</u>	<u>6</u>	<u>1,95</u>	<u>176</u>	<u>256711</u>
<u>5</u>	<u>5</u>	<u>185</u>	<u>5,27</u>	<u>256410</u>
<u>6</u>	<u>4</u>	<u>195</u>	<u>1,27</u>	<u>256710</u>


**4. OBSERVE LOS ÁNGULOS Y ELIJA LO QUE MIDEN Y SU CLASIFIQUELOS.**



Medida:  
Ángulo:

Opciones:

- d) Recto;  $35^\circ$
- e) Obtuso;  $30^\circ$
- f) Agudo;  $30^\circ$



Medida:  
Ángulo:

Opciones:

- a) Recto;  $90^\circ$
- b) Obtuso;  $120^\circ$
- c) Agudo;  $125^\circ$

**5. COMPLETA LAS SIGUIENTES EQUIVALENCIAS UTILIZANDO LA TABLA DE CONVERSIÓN**

$328 \text{ cm} =$	<u>      </u> m	$8 \text{ g} =$	<u>      </u> mg.	$500 \text{ mL} =$	<u>      </u> L
--------------------	-----------------	-----------------	-------------------	--------------------	-----------------

<u>3,28</u>	<u>32,8</u>	<u>800</u>	<u>8000</u>	<u>0,5</u>	<u>0,05</u>
-------------	-------------	------------	-------------	------------	-------------

Prepared by	Reviewed by	Approved by
Teacher	Coordinator	Academic Coordinator
Myriam Velasquez	 María José Taffur	 Javier Garzón