

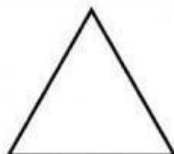
TALLER DE QUÍMICA

NOMBRE DEL ESTUDIANTE: _____

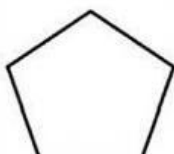
Enlace el nombre correcto de los siguientes cicloalcanos:



Ciclopropano



Ciclopentano

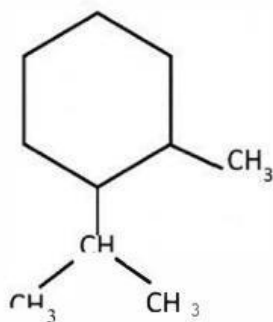


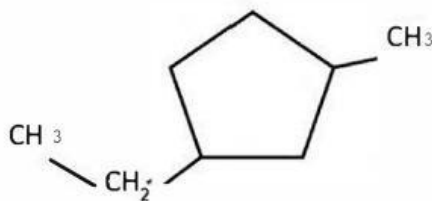
Ciclohexano

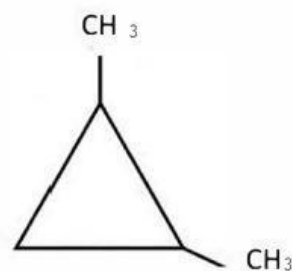


Ciclobutano

seleccione el nombre correcto de los siguientes cicloalcanos ramificados:







Tailene Gonzales