





- a) Creacionista-universo
- b) Estacionario- espacio
- c) Inflacionario- espacio

2. Coloque el literal en el espacio que corresponde:

Teorías del origen del universo	Literal	Enunciado
A. Estacionario		La materia universal estaba concentrada, explotó y se expandió
B. Creación		Disminución de la densidad que puede producir el universo al expandirse
C. Bing-bang		Un ser divino creó todo el universo

3. Identifique las teorías del origen del universo, escribiendo el nombre que corresponda debajo de cada imagen

Creacionismo	Estacionario	Oscilante	Bing bang
--------------	--------------	-----------	-----------

ELABORADO POR : ERIKA GOYES

Actividad # 2

TEORÍAS DEL ORIGEN DEL UNIVERSO

NOMBRE:

CURSO:

FECHA:

1. SELECCIONE LA RESPUESTA CORRECTA:

¿Cuál es la teoría más aceptada sobre el origen del universo?

- a) Inflacionaria
- b) Estacionaria
- c) Creacionista
- d) Bing-bang

En la teoría estacionaria al expandirse el universo, existe una:

- a) Vida propia
- b) Materia
- c) Energía
- d) Radiación Solar

¿Cuándo ocurrió la gran explosión, las materias dio origen a?

- a) Vía láctea, microorganismos
- b) Vía láctea , estrellas y galaxias
- c) Vía láctea, galaxias virus
- d) Vía láctea, ser humano, galaxia .

La teoría _____, dice que el universo debe parecer el mismo en cualquier lugar del _____.

ELABORADO POR : ERIKA GOYES