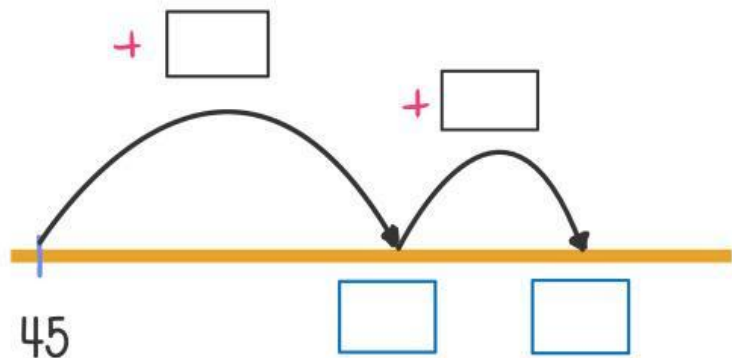


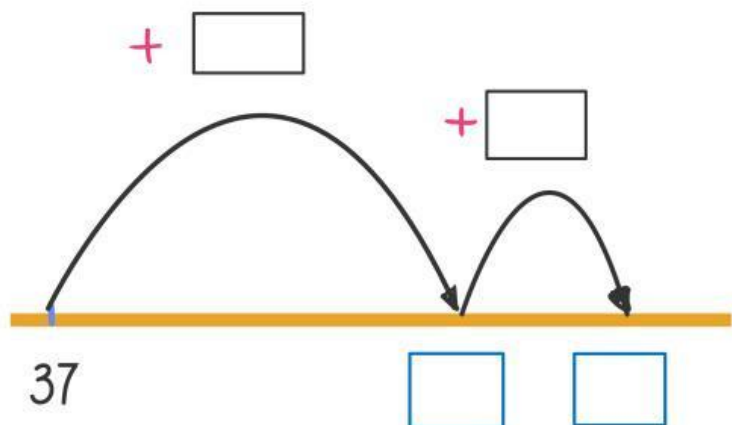
1. Calcula  $45 + 34$  saltando sobre la línea numérica y descomponiendo.

+

2. Calcula  $37 + 56$  saltando sobre la línea numérica y descomponiendo.

+

14 catorce

Fecha:




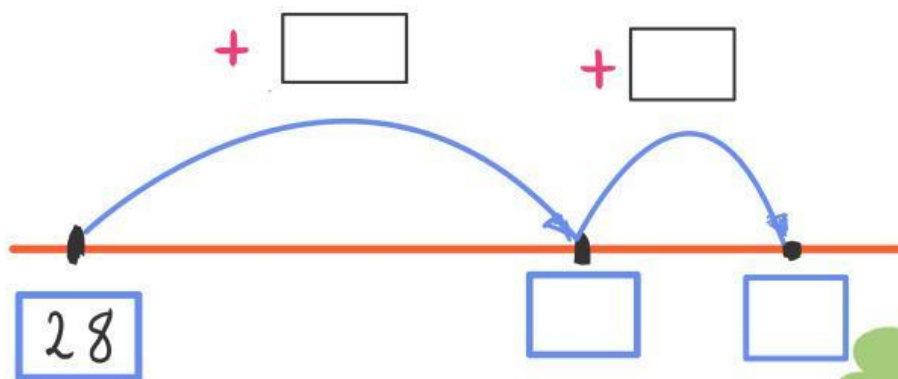
3. Resuelve estas situaciones, una mediante saltos sobre la línea numérica y la otra descomponiendo.

a) Esta mañana, Lucas ha leído 47 páginas de un libro. Por la tarde, ha leído 35 páginas más. ¿Cuántas páginas ha leído hoy en total?

$$\begin{array}{r} + \quad \boxed{\phantom{00}} \\ \boxed{\phantom{00}} \\ \hline \boxed{\phantom{00}} \\ \boxed{\phantom{00}} \\ \hline \boxed{\phantom{00}} \end{array}$$


Respuesta: .....

b) Papá ha gastado \$ 28 en la frutería y \$ 24 en la pastelería. ¿Cuánto ha gastado en total?



Respuesta: .....

15 quince