



Nombre:

Curso:

Colegio:

Profesor:

Velas binarias

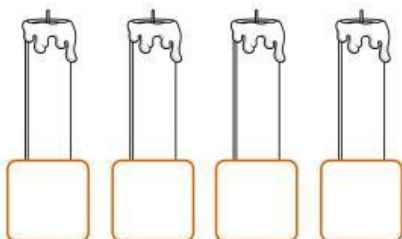
Scratch ha comprendido cómo usar las velas para representar los números de 0 a 15 de forma binaria, pero mientras los memoriza necesita una tabla que le ayude a recordarlos.

Ayuda a Scratch a encender las velas necesarias para representar cada número, debajo de cada vela escribe el número binario correspondiente. Recuerda que una vela encendida es igual a 1 mientras que una apagada es igual a 0.

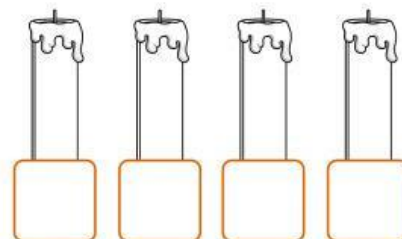


Dibuja la llama sobre la vela que quieras encender y escribe el número binario que corresponda debajo de cada una. Colorea las velas a tu gusto.

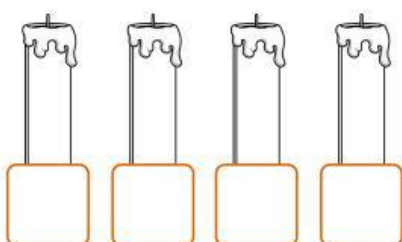
0=



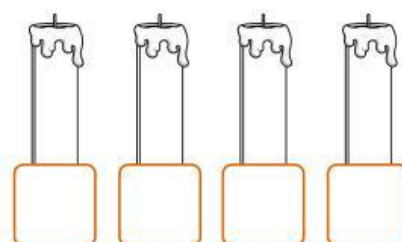
5=



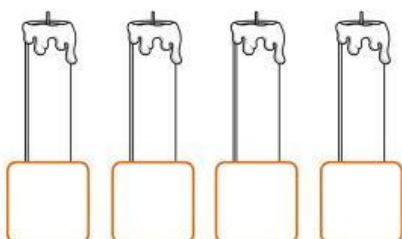
1=



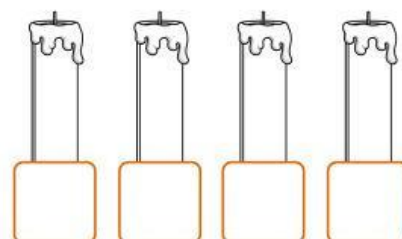
6=



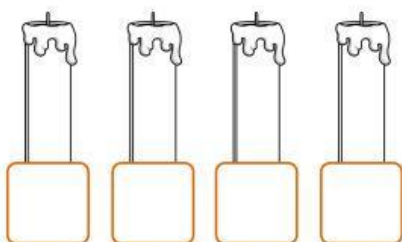
2=



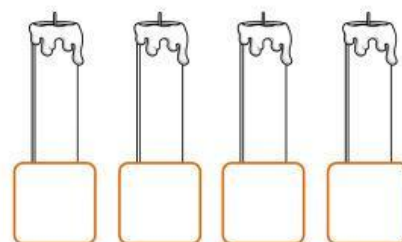
7=



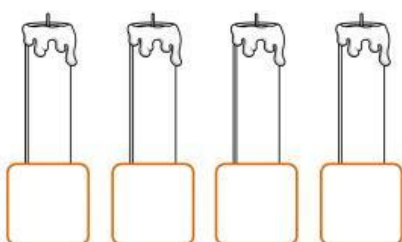
3=



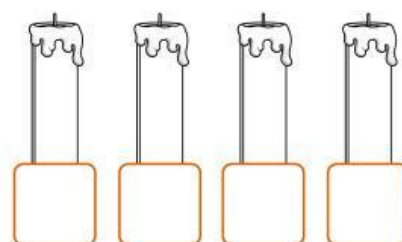
8=



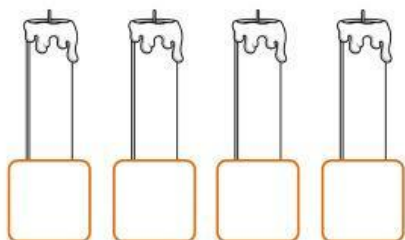
4=



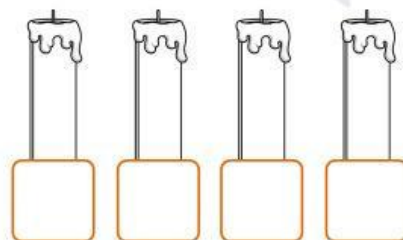
9=



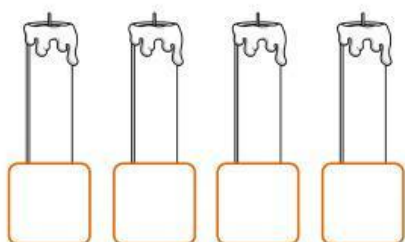
10=



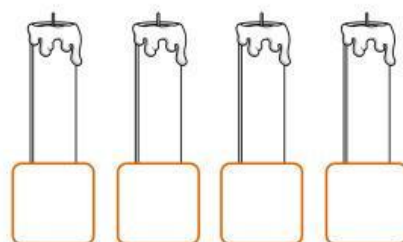
12=



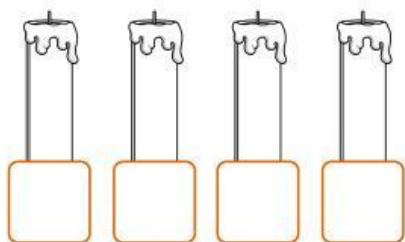
11=



13=



14=



15=

