










ACTIVIDAD EN CLASE N°	 EUGENIO ESPEJO <i>Educar para la vida</i> Año Lectivo 2023 - 2024	CALIFICACIÓN
		10

1. DATOS INFORMATIVOS

CURSO	PARALELO	ASIGNATURA	QUIMESTRE	PARCIAL
Tercero	TMV - JBC	Matemáticas	Primero	Tercer
NOMBRE DOCENTE		NOMBRE DE ESTUDIANTE		FECHA
Guissella Delgado – Erika Montalván				
TEMA:	Tablas de multiplicar, Multiplicación por una cifra y Líneas			

2. DESARROLLO

1. Resuelve las siguientes operaciones y coloca las fichas del rompecabezas según corresponda.

 4 x 6	 3 x 12	 4 x 12
 2 x 6	 3 x 7	 4 x 5
 4 x 8	 3 x 5	 4 x 4

20	16	48
24	15	21
36	12	32

2. Realiza las siguientes multiplicaciones y anota el resultado de cada una de ellas.

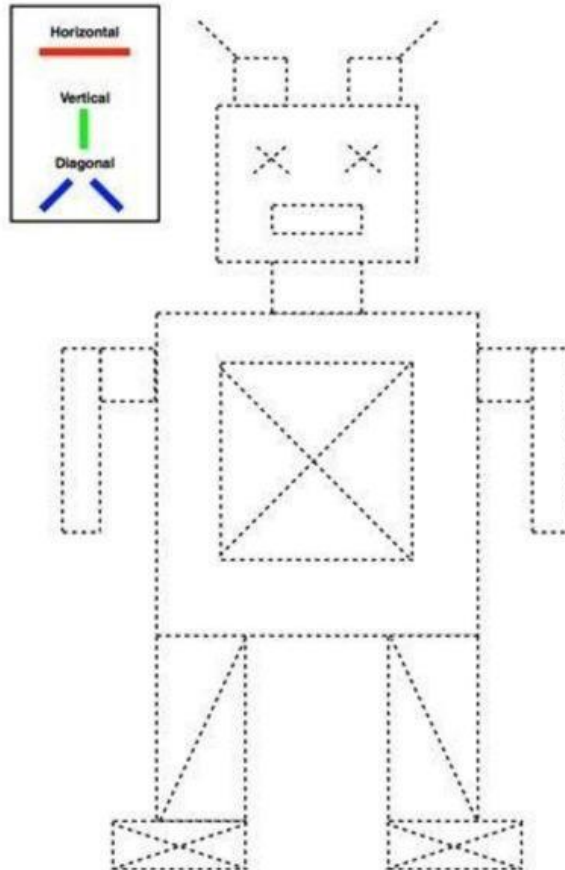
		<input type="checkbox"/>		
		4	7	2
x				4

		<input type="checkbox"/>		
		7	1	5
x				3

		<input type="checkbox"/>	<input type="checkbox"/>	
		3	4	9
x				4


		<input type="checkbox"/>	<input type="checkbox"/>	
		5	3	6
x				4

3. Traza los diferentes tipos de líneas según corresponda.



4. Pinta la opción correcta en cada caso.

¿RECTAS O CURVAS?



¿ABIERTAS O CERRADAS?

