


SOAL EVALUASI

Nama :

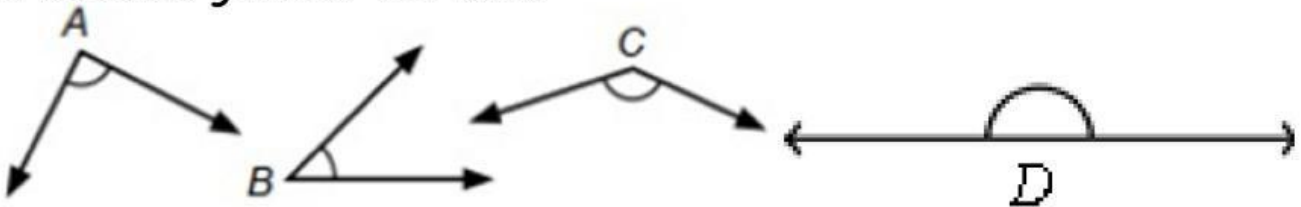
Kelas :

Jawablah pertanyaan berikut ini!



1. Apa nama jenis sudut yang terbentuk dari gambar disamping? Mengapa demikian?

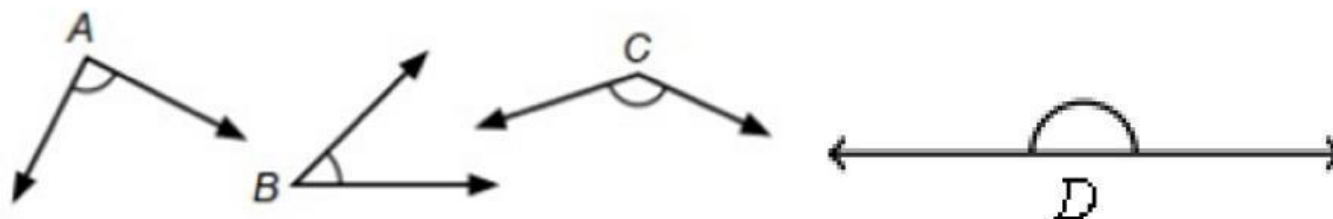
2. Amatilah gambar berikut!



Urutan sudut diatas dari yang paling kecil yaitu.....

3. Besar sudut terkecil yang dapat dibentuk oleh jarum jam pada pukul 09.00 adalah ...

4. Analisislah gambar berikut!



• Apa nama jenis sudut pada gambar?

a) $\angle A =$

b) $\angle B =$

c) $\angle C =$

d) $\angle D =$

• Berapakah besar dari setiap sudut diatas? Ukurlah dengan busur!

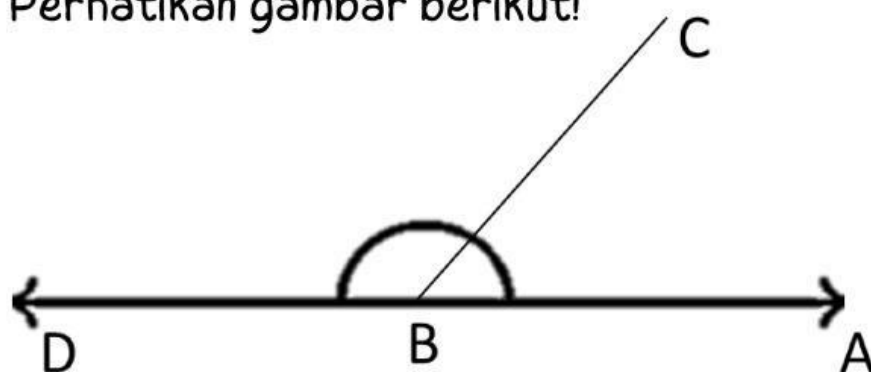
a. $\angle A =$

b. $\angle B =$

c. $\angle A =$

d. $\angle B =$

5. Perhatikan gambar berikut!



Ukurlah dengan busur, sudut $\angle ABC$ dan $\angle CBD$!

*Perhatikan bahwa dua sudut yang berdampingan dapat dijumlahkan besarnya. Berapa jumlah besar kedua sudut yang berdampingan tersebut? Apakah membentuk sudut lurus?