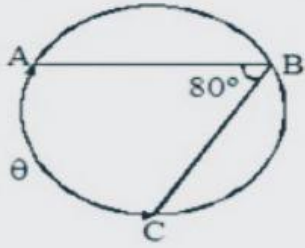


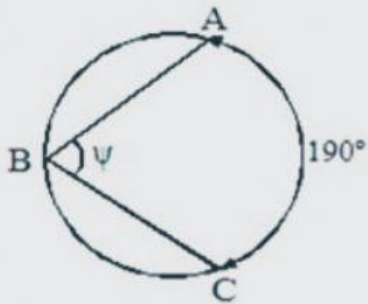
# ángulos inscritos.

Del gráfico, calcular  $\theta$ .



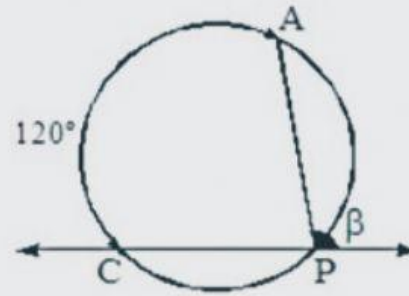
r)

Del gráfico, calcular  $\psi$ .



# Reliza los siguientes ejercicios.

En la figura, calcular  $\beta$ .



t)

De la figura, calcular  $\alpha$ .

