


ÔN TẬP TOÁN CUỐI HK1

Bài 1. Vị trí ở giữa là quả:



A. dâu

B. chuối

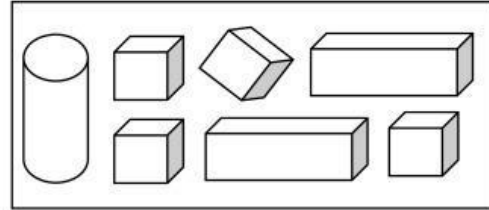
C. cà chua

Bài 2. Hình bên có:

A. 2 khối lập phương

B. 3 khối lập phương

C. 4 khối lập phương

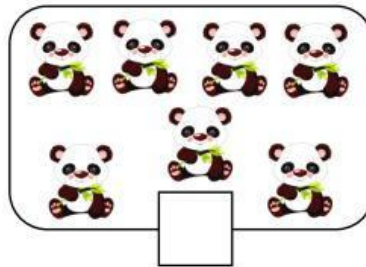


Bài 3. Số thích hợp điền vào ô trống là:

A. 6

B. 7

C. 8



Bài 4. Tính:

$7 + 1 = \dots\dots\dots$

$8 - 3 + 1 = \dots\dots\dots$

$10 - 5 = \dots\dots\dots$

$4 + 3 + 2 = \dots\dots\dots$


$9 - 6 = \dots\dots\dots$

$2 + 5 - 4 = \dots\dots\dots$

$6 + 2 = \dots\dots\dots$

$5 - 4 + 3 = \dots\dots\dots$


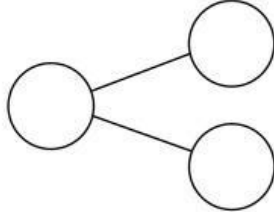
Bài 5. Viết các số 6, 2, 9, 3 theo thứ tự từ lớn đến bé:



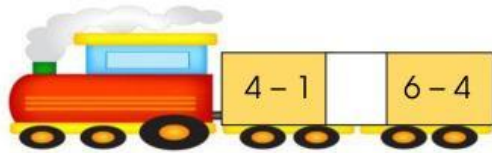

Bài 6. Chọn đồ vật có dạng hình tam giác:




Bài 7. Viết số thích hợp vào sơ đồ tách - gộp tương ứng với tranh:



Bài 8.



Bài 9: Xem tranh và viết hai phép cộng thích hợp:



Bài 10: Nối cà rốt có phép tính phù hợp với thỏ:

