

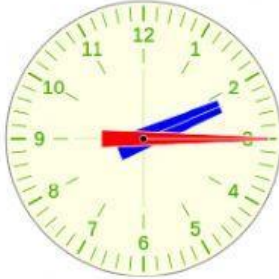


# DIE UHRZEIT

1. Wie spät ist es?



2.- Bringen Sie in Verbindung.

05:00 ●

06:30 ●

02:15 ●

03:15 ●

05:30 ●

12:00 ●

07:45 ●

- Es ist Viertel vor acht
- Es ist Viertel nach drei
- Es ist halb sechs
- Es ist Viertel vor zwei
- Es ist Mittag
- Es ist Viertel nach sieben
- Es ist fünf Uhr
- Es ist halb fünf
- Es ist Viertel vor sieben
- Es ist Viertel nach zwei
- Es ist halb sieben

3.- Sind die Uhrzeiten richtig oder falsch? Schreiebn Sie die richtigen Uhrzeit.

✓ 10:15 → Es ist Viertel nach zehn      Richtig ☐ Falsch ☐



\_\_\_\_\_

✓ 03:30 → Es ist halb drei      Richtig ☐ Falsch ☐



\_\_\_\_\_

✓ 08:45 → Es ist Viertel nach acht      Richtig ☐ Falsch ☐



\_\_\_\_\_

✓ 11:00 → Es ist eleven Uhr      Richtig ☐ Falsch ☐



\_\_\_\_\_

✓ 07:30 → Es ist halb acht      Richtig ☐ Falsch ☐



\_\_\_\_\_