

SOAL EVALUASI

SDN KARANGANYAR GUNUNG 02

NAMA :

NO URUT :

KELAS :

TANGGAL:

Indikator: Peserta didik dapat mengukur panjang benda yang sudah dikenal menggunakan alat pengukur panjang.


SOAL:

1. Sebutkan alat ukur apa yang digunakan untuk menghitung panjang dengan satuan tidak baku?

Jawab :

2. Sebutkan 2 benda disekitarmu dan hitunglah panjangnya dengan menggunakan kertas berpetak yang telah kamu buat!

Jawab :


..... ada ____ kotak





..... ada ____ kotak

3. Berapa jumlah kotak pada panjang gunting dibawah ini dengan alat ukur kertas berpetak?

Jawab :



4.

A 
B 

Pensil A dan B ada ____ ____ kotak



Perhatikan gambar diatas!

Pensil manakah yang lebih panjang dan lebih pendek? Mengapa demikian?

Jelaskan!

Jawab :