



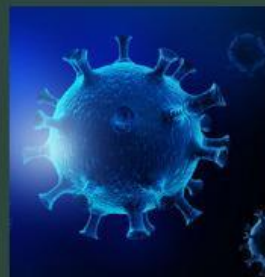

Petunjuk Pengisian LKPD :

- Siswa mengisi identitas, nama dan nomor urut pada kolom yang tersedia
- Siswa membaca perintah yang ada dalam LKPD
- Siswa melihat paparan video yang tersedia di dalam LKPD
- Secara mandiri, siswa mengisi pertanyaan yang ada dalam LKPD
- Setelah selesai mengisi, siswa dapat melihat nilai hasil pengisian LKPD

Nama :

Nomor Urut:

Kelompokkan gambar berikut yang termasuk benda mati dan benda hidup!



Benda Hidup

Benda Hidup

Benda Hidup

Benda Hidup

Benda Hidup

Benda Mati

Benda Mati

Benda Mati

Benda Mati

Benda Mati


Perhatikan video berikut !



Pilihanlah jawaban yang tepat !

Nama	Bergerak	Tumbuh & berkembang	Bereproduksi	Menerima rangsang	Membutuhkan energi	Bernapas	Eksresi	Tersusun atas sel
Mobil								
Bunga matahari								

Mari ketahui



Jodohkan gambar dengan karakteristik makhluk hidup berikut dengan menarik garis



Reproduksi

Makan

Nomor Urut:

Bergerak

Eksresi

Tumbuh dan berkembang

Peka terhadap rangsang

Mari Menyimpulkan

Apa saja yang kamu pelajari hari ini ?

.....

.....

.....

.....

.....

.....