

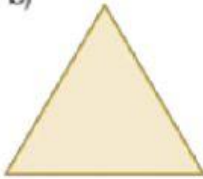
### Actividad n° 1

Indica cuántos lados, vértices y ángulos tiene cada uno de estos polígonos.

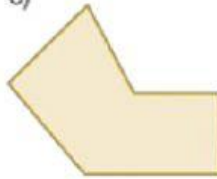
a)



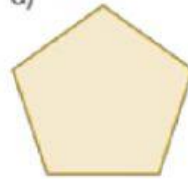
b)



c)



d)



### Actividad n° 2

Clasifica estos polígonos según su número de lados.

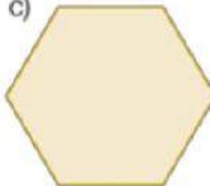
a)



b)



c)



d)



e)



### Actividad n° 3

¿Cuál de estos elementos tiene forma de triángulo equilátero? ¿Y de triángulo isósceles? ¿Y de triángulo escaleno?

