



ATIVIDADES



PROFª EDINA VIEIRA

- 1) Observe a imagem abaixo de uma cozinha. Veja suas dimensões e determine a sua área em m^2 :



- a) 18,05
b) 18,75
c) 17,05
d) 17,50
- 2) A figura abaixo é a planta baixa de um apartamento. Observe-a e responda às questões, considerando cada quadradinho uma unidade de medida de área: Ligue o valor da área de cada cômodo. Apenas da sala, cozinha, banheiro e quarto.



4
UNIDADE

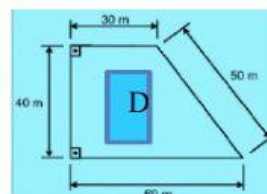
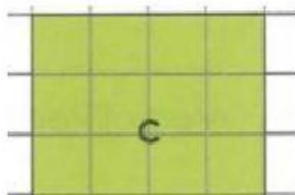
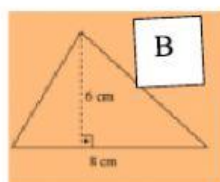
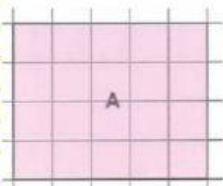
15
UNIDADES

5
UNIDADES

6
UNIDADES

- 3) Qual é a área total do apartamento da atividade anterior?
() A -45 unidades () B -40 unidades () C -8 unidades () D -5 unidades

- 4) Ligue cada figura apresentada abaixo, ao valor de sua área: (Cada quadrinho tem valor de 1 m)



PROFª EDINA VIEIRA

12

20

1800

24