

Nombre y Apellido: _____

Gráfico con Pictogramas

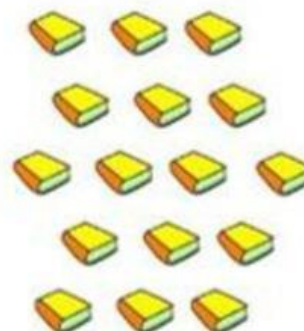
¡Completamos!

1. Observa el siguiente pictograma y completa según la indicación brindada (8 pts.)

Cada  representa 1 cuaderno.

Cuadernos vendidos en la librería de Mary.

Días	Representación	Total
Lunes		3
Martes		5
Miércoles		2
Jueves		6

























¡Completamos!

2. Observa el pictograma, completa los datos y responde las preguntas (12 pts.)

Cada  representa 1 jugo.

Cuadernos vendidos en la librería de Mary.

Jugos	Representación	Total
Piña	 	2
Papaya	       	
Fresa	    	
Naranja	      	

¿Cuántos jugos de papaya se vendieron?

¿Cuántos jugos de piña se vendieron?

¿Qué sabor fue el preferido?