





Capaian Pembelajaran:

Peserta didik dapat mendeskripsikan ciri bentuk bangun datar segiempat

Tujuan Pembelajaran:


- Dengan mengamati gambar, peserta didik dapat menyebutkan macam-macam bangun datar segiempat dengan benar (C1).
- Dengan mengamati gambar, peserta didik dapat menentukan perbedaan bentuk-bentuk bangun datar segiempat dengan tepat (C3).
- Dengan penjelasan guru, peserta didik dapat menganalisis ciri-ciri bangun datar segiempat dengan tepat (C4).
- Dengan tanya jawab, peserta didik dapat menentukan macam-macam bangun datar segiempat dengan tepat (C3).
- Dengan penugasan, peserta didik dapat menentukan ciri-ciri bangun datar segiempat dengan benar (C3).
- Dengan penugasan, peserta didik mampu membuat bangun datar jajargenjang dengan benar (P5)

PETUNJUK

- Lengkapi bagian identitas yang ada pada LKDK
- Tulislah dan lengkapilah bagian kosong yang ada pada LKDK dengan teliti dan benar
- Diskusikan jawabannya dengan teman sekelompokmu
- Berdoalah sebelum mengerjakan LKDK



Tuliskanlah nama-nama bangun datar di bawah ini dengan tepat!



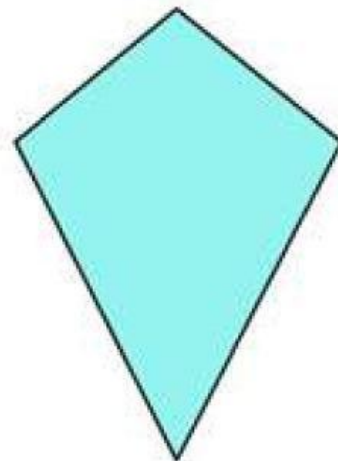
.....

.....



.....

.....



.....

.....



Tabel di bawah ini merupakan perbandingan sifat-sifat bangun datar. Isilah tabel berikut dengan tanda centang jika memiliki ciri-ciri tersebut!



Ciri-ciri Bangun	Nama Segiempat						
	Jajar Genjang	Persegi Panjang	Belah Ketupat	Persegi	Layang-layang	Trapeسيوم	Segiempat Sembarang
Memiliki 4 titik sudut
Memiliki 2 pasang sisi yang berhadapan sejajar
Memiliki 1 pasang sisi sejajar
Memiliki 2 diagonal berpotongan dan membentuk sudut siku-siku
Memiliki 2 diagonal saling membagi sama panjang
Memiliki 2 pasang sisi berdekatan sama panjang





Kerjakan semua soal, cermati soalnya sebelum menulis jawaban!



1. Lengkapi kalimat berikut sehingga menjadi kalimat yang benar!

a). Segiempat yang memiliki 2 pasang sisi sejajar dinamakan

.....

.....

b). Segiempat yang tepat memiliki sepasang sisi sejajar dinamakan

.....

.....

2. Tuliskanlah ciri-ciri dari jajargenjang!

.....

.....

.....

.....


3. Tuliskanlah ciri-ciri dari trapesium

.....

.....

.....

.....



4. Tuliskan persamaan dan perbedaan ciri-ciri yang dimiliki oleh kedua bangun tersebut!

.....

.....

.....

.....

.....

.....

5. Tuliskanlah ciri-ciri yang dimiliki oleh belah ketupat tapi tidak dimiliki oleh layang layang

.....

.....

.....

.....

6. Tuliskan ciri-ciri yang dimiliki oleh persegi tapi tidak dimiliki oleh persegi panjang!

.....

.....

MARI BERAKTIVITAS

- Buatlah gambar jajargenjang pada selembar kertas!
- Hitunglah ada berapa sudut!
- Hitunglah ada berapa titik sudut!
- Hitunglah ada berapa sisi!
- Ukurlah masing-masing panjang sisi tersebut! Sebutkan sisi yang sama panjang!
- Sebutkan nama sisi-sisi yang sejajar
- Selanjutkan diskusikan hal berikut dengan kelompok
 1. Pada jajargenjang ada berapa pasang sisi yang sejajar?
 2. Apa yang kalian ketahui tentang jajargenjang?
- Presentasikan hasil aktivitas di depan kelas dengan percaya diri!