



# FICHAS PARA PRIMARIA

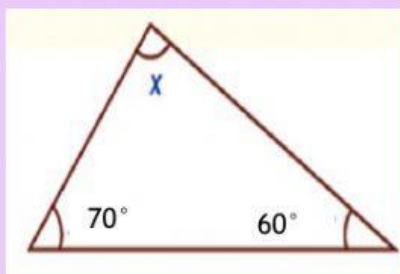


Miss Delys

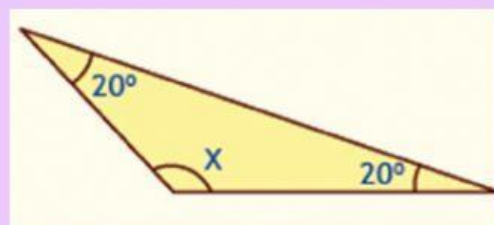
## ÁNGULOS INTERNOS DE UN TRIÁNGULO.

1.- ¿Cuánto mide  $x$  en los siguientes triángulos?

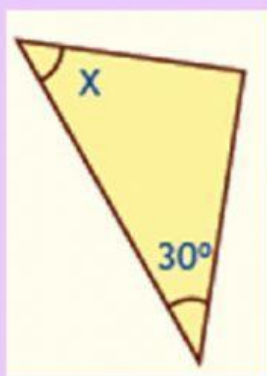
a)



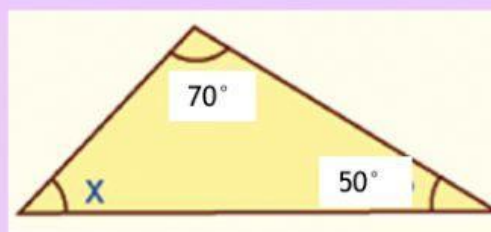
b)



c)



d)



e)

