


LA MOLTIPLICAZIONE: ADDIZIONE RIPETUTA

1 Osserva i disegni, rispondi e completa.



Quante ruote ha ogni bicicletta? ____


Quante sono le biciclette? ____

Quante ruote in tutto? ____

$$2 + 2 + 2 + 2 = \underline{\quad}$$

oppure

$$2 \times 4 = \underline{\quad}$$



Quante ruote ha ogni automobile? ____

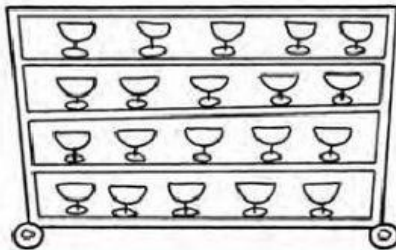
Quante sono le automobili? ____

Quante ruote in tutto? ____

$$4 + \underline{\quad} + \underline{\quad} = \underline{\quad}$$

oppure

$$4 \times \underline{\quad} = \underline{\quad}$$



Quanti bicchieri su ogni ripiano? ____


Quanti ripiani ha il mobile? ____

Quante bicchieri in tutto? ____

$$\underline{\quad} + \underline{\quad} + \underline{\quad} + \underline{\quad} = \underline{\quad}$$

oppure

$$\underline{\quad} \times \underline{\quad} = \underline{\quad}$$



Quanti pasticcini su ogni vassoio? ____

Quanti sono i vassoi? ____

Quanti pasticcini in tutto? ____

$$\underline{\quad} + \underline{\quad} + \underline{\quad} + \underline{\quad} + \underline{\quad} = \underline{\quad}$$

oppure

$$\underline{\quad} \times \underline{\quad} = \underline{\quad}$$

O.A.: comprendere il concetto di moltiplicazione come addizione ripetuta.